

الدرس (١-١) الحرارة و الاتزان الحراري

السؤال الأول: أكتب بين القوسين الاسم أو المصطلح العلمي الذي تدل عليه كل من العبارات التالية:

١. الكمية الفيزيائية التي يمكن من خلالها تحديد مدى سخونة جسم ما أو برودته عند مقارنته

بمقياس معياري.

( ..... )

٢. متوسط طاقة حركة الجزيء الواحد في المادة.

( ..... )

٣. درجة الحرارة التي تتعدم عندها الطاقة الحركية لجزيئات المادة نظرياً.

( ..... )

٤. الطاقة المنتقلة بين جسمين نتيجة اختلافهما في درجة الحرارة.

( ..... )

٥. سريان الطاقة من جسم له درجة حرارة مرتفعة إلى آخر له درجة حرارة أقل.

( ..... )

٦. هي مجموع تغير الطاقة الحركية لكل جزيئات المادة .

( ..... )

٧. مجموعة من الطاقات تشمل الطاقة الحركية الدورانية و الطاقة الناتجة عن الحركة الداخلية

( ..... )

للذرات المكونة للجزيء و طاقة وضع للجزيئات تنتج عن قوى التجاذب المتبادلة بينها .

( ..... )

السؤال الثاني : أكمل كل من العبارات التالية بما يناسبها علمياً:-

١. متوسط الطاقة الحركية للجزيء الواحد من المادة يحدد ..... الجسم .

٢. تتناسب درجة حرارة الغاز المثالي مع .....للجزيء الواحد من الغاز .

٣. يستخدم جهاز ..... لقياس درجة الحرارة.

٤. درجة الحرارة التي يتجمد عندها الماء تساوي .....°C أو .....°F أو .....K عند الضغط الجوي المعتاد.

٥. درجة الحرارة التي يغلي عندها الماء .....°C أو .....°F أو .....K عند الضغط الجوي المعتاد .

٦. في حالة التلامس الحراري تسري الحرارة من المادة التي لها درجة حرارة ..... إلى المادة التي لها درجة

حرارة .....

٧. إذا أُلقيت قطعة معدنية ساخنة في كأس ماء بارد فإنها تفقد حرارة حتى تصل لحالة .....

٨. عند وصول الأجسام التي تكون في حالة التلامس الحراري إلى درجة الحرارة نفسها يتوقف سريان الحرارة , وعندها

توصف هذه الأجسام بأنها في حالة .....

٩. عندما تمتص مادة كمية من الحرارة، تزيد الحركة الاهتزازية لجزيئاتها .....درجة حرارتها.

١٠. إذا امتصت مادة ما كمية من الطاقة الحرارية و لم تزداد الطاقة الحركية الانتقالية لجزيئاتها (لم ترتفع درجة

حرارتها ) , فان الطاقة الحرارية الممتصة تعمل على .....

١١. يترافق انتقال الطاقة بين الأجسام مع ..... درجة حرارتها أو .....في حالتها .

السؤال الثالث : ضع بين القوسين علامة ( ✓ ) أمام العبارة الصحيحة علمياً ، وعلامة ( ✕ ) أمام العبارة غير

الصحيحة علمياً في كل مما يلي :

١. ( ) تتناسب درجة حرارة الغاز المثالي مع متوسط الطاقة الحركية لجزيئات الغاز سواء كانت الحركة في خط مستقيم أم في خط منحن .
٢. ( ) تعتبر درجة الحرارة مقياساً لمجموع طاقات الحركة لجميع جزيئات المادة.
٣. ( ) الإناء الذي يحتوي على ( 2 ) لتر من الماء المغلي فيه كمية من الطاقة تساوي ضعف الكمية الموجودة في إناء يحتوي على واحد لتر من الماء المغلي .
٤. ( ) يمكن أن تسري الحرارة بين جسمين الطاقة الحركية لجزيئاته كبيرة إلى جسم متوسط طاقه حركة الكلية أقل .
٥. ( ) لا تسري الحرارة تلقائياً من جسم بارد إلى آخر أكثر سخونة.
٦. ( ) الطاقة الحركية الكلية لجزيئات الماء في حوض سباحة أقل بكثير من الطاقة الحركية الكلية لجزيئات مسمار من الحديد المتوهج لدرجة الاحمرار .

السؤال الرابع: ضع علامة ( ✓ ) في المربع المقابل لأنسب إجابة أو تكملة صحيحة لكل من العبارات التالية :

١. النقطتان الثابتتان اللتان بني عليهما التدرج السيليزي هما :

درجتا انصهار الجليد و غليان الماء تحت الضغط العياري.

درجتا تجمد و غليان الكحول تحت الضغط العياري .

درجتا تجمد و غليان الزئبق تحت الضغط العياري .

درجتا تجمد و انصهار الشمع تحت الضغط العياري .

٢. العبارات التالية صحيحة ، عدا عبارة واحدة وهي:

درجة غليان الماء تساوي ( 212 °F ) .  درجة تجمد الماء تساوي ( 32 °F ) .

درجة غليان الماء تساوي ( 373 K ) .  درجة غليان الماء تساوي ( 100 °F ) .

٣. من الممكن التحويل من تدرج سلسيوس إلى تدرج فهرنهايت باستخدام المعادلة التالية :

$$T(^{\circ}C) = \frac{9}{5}T(^{\circ}F) + 32 \quad \square \quad T(^{\circ}F) = \frac{9}{5}T(^{\circ}C) + 32 \quad \square$$

$$T(^{\circ}C) = \frac{5}{9}T(^{\circ}F) + 32 \quad \square \quad T(^{\circ}F) = \frac{5}{9}T(^{\circ}C) + 32 \quad \square$$

٤. الدرجة التي تعادل  $^{\circ}C$  ( 100 ) هي :

132 °F  132 K  373 K  373 °F

٥. جزيئات الماء وجزيئات بخار الماء الواقع فوق سطحه عند الدرجة  $^{\circ}C$  ( 100 ) تكون متساوية في :

متوسط طاقة الحركة.  طاقة الوضع .

الطاقة الداخلية.  طاقة الحركة والطاقة الداخلية .

٦. اكتساب المادة لكمية من الطاقة الحرارية يؤدي إلى :

زيادة طاقة حركة جزيئاتها فقط.  ارتفاع درجة حرارتها فقط .

زيادة أبعادها الهندسية .  جميع ما سبق صحيح .

## وزارة التربية-التوجيه الفني للعلوم -بنك أسئلة الصف الحادي عشر العلمي-الكتاب الثاني

٧. مقدار درجة الحرارة ( $39^{\circ}C$ ) تكافئ أو تعادل بتدريج كلفن :

- (312K)       (31.2K)       (-234K)       (351 K)

٨. الطاقة التي يكتسبها الجليد أثناء انصهاره :

- تسبب زيادة في الطاقة الحركية الانتقالية للجزيئات .  
 لا تسبب زيادة في الطاقة الحركية الانتقالية للجزيئات ,  
 تسبب ارتفاع في درجة حرارة الجليد.  
 تسبب زيادة في الطاقة الحركية الانتقالية للجزيء الواحد .  
٩. عند لمس خزانة من الخشب ، وصبور المياه الموجودين في المختبر وذلك في فصل الشتاء :  
 نشعر أن درجة حرارة الصنبور أعلى من درجة حرارة الخزانة الخشب.  
 تكون درجة حرارة الصنبور أقل من درجة حرارة الخزانة الخشب .  
 كمية الحرارة التي يمتصها الصنبور من اليد تكون أكبر من كمية الحرارة التي تمتصها الخزانة الخشب.  
 كمية الحرارة التي يمتصها الصنبور من اليد تكون أقل من كمية الحرارة التي تمتصها الخزانة الخشب.  
١٠. يعبر مفهوم السعة الحرارية للمواد عن دورها في :

- اختزان الحرارة المكتسبة.       إطلاق الحرارة المكتسبة.  
 اختزان أو إطلاق الحرارة المكتسبة .       اختزان أو إطلاق الحرارة المكتسبة بمعدلات مختلفة .  
١١. تختزن المواد المختلفة الحرارة و تطلقها بمعدلات تختلف باختلاف :  
 نوع المادة .       درجة الحرارة .  
 كتلة المادة.       متوسط سرعة الجزيء.

### السؤال الخامس : علل كل مما يلي تعليلاً علمياً سليماً :

١ - قد تنتقل الحرارة من جسم طاقته الحركية الكلية أقل إلى جسم طاقته الحركية الكلية أكبر .

.....

٢ - عند الإصابة بحرق خارجي طفيف ينصح بوضع موضع الحرق تحت ماء بارد جار ، أو وضع ثلج عليه

.....

٣ - يجب أن يكون حجم الترمومتر أصغر بكثير من حجم المادة التي تقاس درجة حرارتها بواسطتها .

.....

٤ - أيا كان حجم الترمومتر الذي تقاس به درجة حرارة الهواء الجوي أو مياه البحر فإن قراءته تكون دقيقة .

.....

٥- عندما نستخدم الترمومتر لقياس درجة حرارة مادة معينة فإنه يجب الانتظار حتى تثبت قراءته.

.....

السؤال السادس : قارن بين كل مما يلي حسب وجه المقارنة المطلوب :

التدرج الكلفني	التدرج الفهرنهايتي	التدرج السيليزي	وجه المقارنة
			رمز التدرج
			درجة غليان الماء
			درجة تجمد الماء
			عدد الدرجات بين درجة تجمد و غليان الماء
			المسافة الفاصلة بين كل تدرجين

درجة الحرارة	الحرارة	وجه المقارنة
.....	.....	المفهوم العلمي الذي تعبر عنه
.....	.....	طريقة تقديرها او حسابها
.....	.....	وحدة أو وحدات القياس

السؤال السابع : وضح مع التفسير ماذا يحدث في الحالات التالية .

١ . لمتوسط طاقة حركة الجزيئات إذا تلامس جسمان أحدهما ساخن والآخر بارد لفترة كافية.

.....  
.....

٢ . عند إلقاء مسمار ساخن لدرجة التوهج في حوض سباحة .

.....  
.....

٣ . لطاقة حركة جزيئات كوب يحتوي شاي ساخن عند إضافة كمية من الحليب البارد إليه .

.....  
.....

٤ . عندما تمتص مادة ما كمية من الحرارة .

.....  
.....

٥. عندما يحدث تلامس حراري بين مادتين مختلفتين في درجة الحرارة .

.....  
.....

٦. عند وصول جسمين متلامسين حراريا إلى حالة الاتزان الحراري .

.....

السؤال الثامن : ما المقصود بكل من :

١ - الحرارة :

.....

٢ - درجة الحرارة :

.....

٣ - الطاقة الداخلية :

.....

الدرس ١-٢ القياسات الحرارية

السؤال الأول : أكتب بين القوسين الاسم أو المصطلح العلمي الذي تدل عليه كل من العبارات التالية:

١. كمية الحرارة اللازمة لرفع درجة حرارة جرام واحد من الماء درجة واحدة سلسيوس. (.....)
٢. كمية الحرارة اللازمة لرفع درجة حرارة كيلو جرام واحد من الماء درجة واحدة سلسيوس. (.....)
٣. كمية الحرارة اللازمة لرفع درجة حرارة كيلو جرام واحد من مادة ما درجة حرارية واحدة على تدرج سلسيوس . (.....)
٤. كمية الحرارة اللازمة لرفع درجة حرارة مادة كتلتها  $m$  درجة واحدة على تدرج سلسيوس. (.....)
٥. جهاز يعزل الداخل عن المحيط و يسمح بتبادل الحرارة و انتقالها بين مادتين أو أكثر داخله من دون أي تأثير من المحيط أي أنه يشكل نظاماً معزولاً . (.....)

السؤال الثاني : أكمل كل من العبارات التالية بما يناسبها علمياً:-

١. الوحدة التي تستخدم في تقدير المكافئ الحراري للأغذية هي .....
٢. الوحدة التي تقاس بها الطاقة وفقاً للنظام الدولي للوحدات (SI) هي .....
٣. الوحدة التي تكافئ ( 4.184 ) جول تسمى.....
٤. يتم تحديد .....بحرق كميات محددة من الأغذية و الوقود و قياس كمية الحرارة الناتجة .
٥. يمكن حساب السعة الحرارية النوعية لمادة بالمعادلة التالية .....
٦. يمكن حساب الطاقة المكتسبة أو المفقودة بالمعادلة التالية.....أو .....
٧. يمكن حساب السعة الحرارية لمادة كتلتها  $m$  من العلاقة .....
٨. عندما تكون  $T_f > T_i$  أي أن  $Q > 0$  و بالتالي فإن المادة .....حرارة مقدارها  $|Q_i|$
٩. عندما تكون  $T_f < T_i$  أي أن  $Q < 0$  و بالتالي فإن المادة .....حرارة مقدارها  $|Q_i|$
١٠. عندما يكون النظام معزول فإن الحرارة التي تفقدها المادة الساخنة تساوي الحرارة التي تكتسبها المادة الباردة أي يكون مجموع الحرارة المتبادلة يساوي .....
١١. السعة الحرارية النوعية خاصية تتغير بتغير نوع المادة و تغير حالتها و لكنها مستقلة عن .....

السؤال الثالث : ضع بين القوسين علامة ( ✓ ) أمام العبارة الصحيحة علمياً ، وعلامة ( ✗ ) أمام العبارة غير

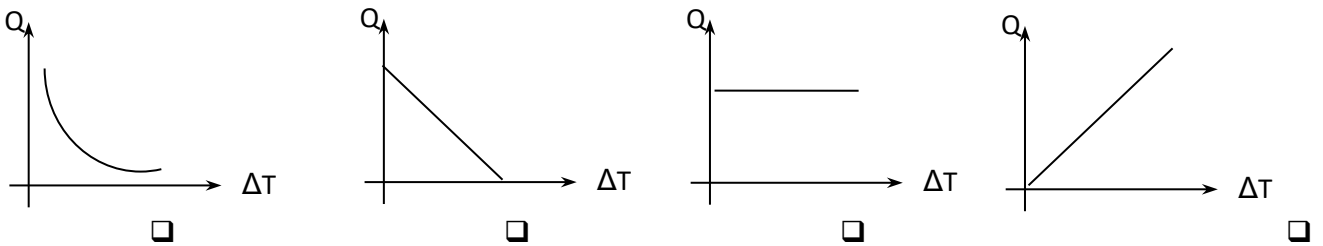
الصحيحة علمياً في كل مما يلي :

١. ( ) تعتبر السعة الحرارية النوعية قصور ذاتي حراري لأنها تعبر عن ممانعة الجسم للتغير في درجة حرارته.
٢. ( ) المواد التي ترتفع حرارتها بسرعة يكون لها سعة حرارية نوعية كبيرة.
٣. ( ) الحرارة النوعية مقدار ثابت يتوقف على نوع مادة الجسم فقط.
٤. ( ) السعة الحرارية للجسم تعتبر قيمة ثابتة تتوقف على نوع مادة الجسم فقط.
٥. ( ) القصور الذاتي الحراري يعبر عن ممانعة الجسم للتغير في درجة حرارته.

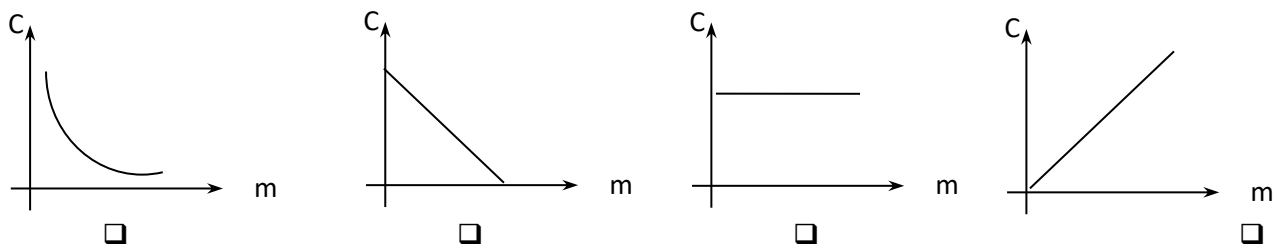
٦. ( ) وحدة قياس السعة الحرارية لمادة هي  $J/kg$ .
٧. ( ) وحدة قياس السعة الحرارية النوعية لمادة هي  $J/kg.K$ .
٨. ( ) السعة الحرارية النوعية للماء من أكبر السعات الحرارية النوعية لذلك درجة حرارة الماء تتغير بسرعة .

**السؤال الرابع : ضع علامة ( ✓ ) في المربع المقابل لأنسب إجابة لتكمل بها كل من العبارات التالية :**

١. عندما يكون النظام الحراري معزولاً , فإن :
- كمية الحرارة التي تخسرها المادة الساخنة تكتسبها المادة الباردة بالتفاعل مع المحيط
- كمية الحرارة التي تخسرها المادة الساخنة تكتسبها المادة الباردة من دون أي تفاعل مع المحيط
- مجموع الحرارة المتبادلة بين مكونات المزيج لا يساوي صفر
- مجموع الحرارة المتبادلة بين مكونات المزيج و الوسط المحيط لا يساوي صفر
٢. تتوقف كمية الحرارة المكتسبة أو المفقودة على :
- كتلة الجسم  نوع مادة الجسم  التغير في درجة حرارة الجسم.  جميع ما سبق
٣. تتوقف السعة الحرارية النوعية للجسم على :
- كتلة الجسم  نوع المادة  حالة المادة  نوع المادة وحالتها
٤. إذا علمت أن السعر  $4.18 J =$  فإن كمية من الحرارة قدرها  $209 J$  تعادل بوحدة السعر :
- 873.62  100  50  0.02
٥. تتوقف السعة الحرارية للجسم على :
- نوع مادة الجسم فقط  كتلة الجسم فقط
- مقدار الارتفاع في درجة الحرارة فقط  كتلة الجسم ونوع مادته
٦. كمية من الماء كتلتها  $2 kg$  اكتسبت  $21000 J$  من الحرارة فإذا كانت  $C = 4200 J/kg ^\circ K$  فإن مقدار الارتفاع في درجة حرارة الماء تساوي بوحدة  $^\circ C$  :
- 100  50  10  2.5
٧. أفضل خط بياني يوضح العلاقة بين كمية الطاقة الحرارية ( Q ) التي يكتسبها جسم و مقدار الارتفاع في درجة حرارته (  $\Delta T$  ) هو :



٨. أفضل خط بياني يوضح العلاقة بين السعة الحرارية النوعية لمادة جسم ( C ) بدلالة كتلته ( m ) هو :



## وزارة التربية-التوجيه الفني للعلوم -بنك أسئلة الصف الحادي عشر العلمي-الكتاب الثاني

**السؤال الخامس : علل لكل مما يلي تعليلاً علمياً سليماً :**

١ - يحتاج جرام واحد من الماء إلى سعر حراري واحد لرفع درجة حرارته درجة واحدة سلسيوس بينما يحتاج جرام واحد من الحديد إلى  $(\frac{1}{8})$  هذه الكمية .

٢ - تمتص كتلة معينة من الماء كمية من الطاقة أكبر من تلك التي تمتصها كتلة مساوية من الحديد لترتفع للعدد نفسه من درجات الحرارة .

٣ - يعتبر الماء سائلاً مثالياً للتبريد و التسخين .

٤ - استخدم الأجداد زجاجات الماء الحارة لتدفئة أقدامهم في أيام الشتاء القارس .

٥- تستطيع إزالة غطاء الالمونيوم عن صينية الفرن الساخنة بإصبعك لكن من الخطورة لمس الطعام الموجود بها.

٦- لا تعاني المدن القريبة من المساحات المائية الكبيرة من فرق كبير في درجات الحرارة بين الليل والنهار على عكس المدن البعيدة عن هذه المساحات كالصحارى.

**السؤال السادس : أكمل جدول المقارنة التالي حسب وجه المقارنة المطلوب .**

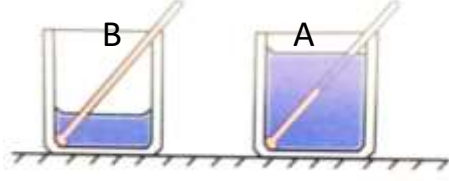
وجه المقارنة	الحرارة النوعية c	السعة الحرارية C
العوامل التي يتوقف عليها		
وحدة القياس		
تأثير زيادة كتلة المادة إلى الضعف		

وجه المقارنة	السعة الحرارية	السعة الحرارية النوعية
العلاقة البيانية مع كتلة الجسم		



**السؤال السابع : نشاط:**

\* الكوبان (B) و (A) في الشكل المقابل بهما كميتان من نفس السائل . ماذا يحدث مع التفسير لدرجة حرارة كلا منها عند اعطائهما القدر نفسه من الحرارة .



**السؤال الثامن : ما المقصود بكل من :**

١ - السعة الحرارية .

٢ - السعة الحرارية النوعية .

٣ - المسعر .

٤ - السعر الحراري .

٥- الكيلو سعر الحراري.

**السؤال التاسع : اذكر العوامل التي يتوقف عليها كل مما يأتي:**

١- كمية الحرارة المكتسبة أو المفقودة.

٢ - السعة الحرارية .

٣ - السعة الحرارية النوعية .

**السؤال العاشر : ماذا يقصد بكل مما يأتي:**

١ -السعة الحرارية النوعية للماء =  $4200J / kg.K$

٢ - السعة الحرارية لجسم =  $(2000J / .K)$

السؤال الحادي عشر : حل المسائل التالية

١ - كرة من النحاس كتلتها  $g(50)$  عند درجة حرارة  $^{\circ}C(200)$  رفعت درجة حرارتها إلى  $^{\circ}C(220)$  . احسب ( أ ) كمية الحرارة اللازمة لتسخينها. (علما بأن السعة الحرارية النوعية للنحاس  $(j/kg.K3.87 \times 10^2)$ )

( ب ) السعة الحرارية لكرة النحاس .

٢- سخن ساق من الألومنيوم كتلته  $g(28.4)$  إلى  $^{\circ}C(39.4)$  ثم وضع داخل مسعر حرارى يحتوى على  $g(50)$  من الماء درجة حرارته  $^{\circ}C(21)$ . فإذا علمت أن: السعة الحرارية النوعية للألومنيوم  $8.99 \times 10^2 J/kg.k$ ، و السعة الحرارية النوعية للماء  $4.18 \times 10^3 J/kg.K$  . بإهمال السعة الحرارية النوعية للمسعر. احسب : درجة الحرارة النهائية للساق.

٣- تسخن قطعة من النحاس كتلتها  $g(2.5)$  إلى درجة حرارة ما ، ثم توضع في مسعر حرارى يحتوى على  $g(65)$  من الماء فارتفعت حرارة الماء من  $^{\circ}C(20)$  إلى  $^{\circ}C(22.5)$  فإذا علمت ان السعة النوعية للماء  $(4180) J/kg.k$  لوالسعة النوعية للنحاس هي  $(387) J/kg.K$  . وإهمال السعة الحرارية النوعية للمسعر. احسب : درجة الحرارة الابتدائية لقطعه النحاس .

٤ - نضع  $g(500)$  من الماء درجة حرارته  $^{\circ}C(15)$  في مسعر حرارى ثم نضيف اليه قطعه من النحاس كتلتها  $g(100)$  ودرجة حرارتها  $^{\circ}C(80)$  وقطعة من معدن غير معروف سعتها الحرارية النوعية وكتلتها  $g(70)$  ودرجة حرارتها  $^{\circ}C(100)$  يصل النظام كله إلى الاتزان الحرارى فتكون حرارته  $^{\circ}C(25)$  بإهمال السعة الحرارية النوعية للمسعر الحرارى باعتباره لا يتبادل حرارة مع النظام. علماً بأن السعة الحرارية النوعية للماء هي  $(4180) J/kg.K$  وأن السعة الحرارية النوعية للنحاس هي  $(386) J/kg.K$ . احسب : السعة الحرارية النوعية لقطعة المعدن .

الدرس (١-٣) : التمدد الحراري

السؤال الأول :- اكتب بين القوسين الاسم أو المصطلح العلمي الذي تدل عليه كل من العبارات التالية

١. الزيادة في حجم المادة عند ارتفاع درجة حرارتها . (.....)
٢. التحام شريطين من مادتين مختلفتين ( برونز و حديد ) لهما نفس الأبعاد . (.....)
٣. تمدد الجسم الصلب في جميع الاتجاهات ( طول - عرض - ارتفاع ) . (.....)
٤. التغير في وحدة الحجم عندما تتغير درجة الحرارة درجة مئوية واحدة . (.....)
٥. تمدد السائل عندما نعتبر أن الإناء الذي يحتويه لم يتمدد. (.....)
٦. مجموع التمدد الظاهري ( $\Delta V_a$ ) و تمدد الإناء ( $\Delta V_c$ ) . (.....)
٧. تغير أبعاد المادة بتغير درجة الحرارة . (.....)
٨. التغير في وحدة الأطوال عندما تتغير درجة حرارته درجة سيليسوس واحدة. (.....)
٩. التغير في وحدة الأحجام عندما تتغير درجة حرارته درجة سيليسوس واحدة. (.....)

السؤال الثاني: ضع علامة (✓) أمام العبارة الصحيحة وعلامة (×) أمام العبارة الغير صحيحة:-

١. ( ) كلما زادت قوة التماسك بين الجزيئات زاد مقدار تمدده بالتسخين .
٢. ( ) يتمدد السائل بمقدار أكبر عشر مرات من الحالة الصلبة .
٣. ( ) تتمدد المواد في الحالة السائلة بمقدار أكبر من المواد في الحالة الصلبة عندما تتعرض لنفس الفرق في درجات الحرارة .
٤. ( ) تتحني المزدوجة الحرارية من ( الحديد - البرونز ) ناحية البرونز عند التسخين.
٥. ( ) يقتصر التمدد الطولي على المواد الصلبة فقط .
٦. ( ) في المزدوجة الحرارية الشريط الذي يتمدد أكثر عند التسخين ينكمش أكثر عند التبريد.
٧. ( ) عند تبريد المزدوجة الحرارية تتحني باتجاه البرونز لان معامل التمدد الخطي للبرونز اكبر.
٨. ( ) معامل التمدد الطولي يعادل ثلاثة أمثال معامل التمدد الحجمي .
٩. ( ) كثافة الماء عند درجة الحرارة  $4^{\circ}\text{C}$  اكبر من كثافته عند الدرجة  $0^{\circ}\text{C}$  .
١٠. ( ) كلما كبر حجم السائل كلما زاد مقدار تمدده عند التسخين.
١١. ( ) (الزيادة الحقيقية في حجم الماء = الزيادة الظاهرية في حجم الماء + الزيادة في حجم الدورق.

السؤال الثالث :- أكمل كل من العبارات التالية بما يناسبها علميا :-

- ١- حجم معظم الأجسام ..... مع ارتفاع درجة الحرارة
- ٢- تتحني المزدوجة الحرارية المكونة من ( البرونز - الحديد ) باتجاه .....عندما تبرد
- ٣- معامل التمدد الحجمي = .....أمثال معامل التمدد الطولي
- ٤- تغير درجة حرارة المادة يؤدي إلى تغيرات في بعض خواص المادة مثل .....أو.....
- ٥- يستمر الماء بالانكماش عندما ترتفع درجة حرارته عن الصفر حتى يصل الى .....

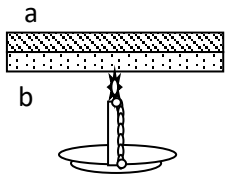
السؤال الرابع :- اختر الإجابة الصحيحة لكل من العبارات التالية و ظلل المربع المجاور لها :

١. إحدى العبارات التالية فقط تعتبر صحيحة هي :  
المواد الصلبة يكون مقدار تمددها بالتسخين صغيرا.  المواد الصلبة يكون مقدار تمددها بالتسخين كبيرا  
المواد الغازية يكون مقدار تمددها بالتسخين صغيرا.  تمدد السوائل أقل من تمدد الأجسام الصلبة.
٢. ساق معدنية طولها ( 100 ) cm و معامل التمدد الخطي لمادتها  $(18 \times 10^{-6})^{\circ}C^{-1}$  فإن الساق يصبح طولها بوحدة السنتيمتر بعد رفع درجة حرارتها  $2^{\circ}C$  :  
0.00018      100.0036      100.0018      100.36
٣. ساق معدنية طولها ( 100 ) cm ومعامل التمدد الخطي لمادتها  $(25 \times 10^{-6})^{\circ}C^{-1}$  , فلكي يزداد طولها بمقدار ( 1 ) cm يجب رفع درجة حرارتها بمقدار يساوي بوحدة  $(^{\circ}C^{-1})$  :  
40      400      500      2500
٤. ساق طولها ( 4 ) m ترفع درجة حرارتها من  $15^{\circ}C$  إلى  $40^{\circ}C$  فازداد طولها بمقدار (0.0012) m, فإن معامل التمدد الخطي للساق بوحدة  $(^{\circ}C^{-1})$  يساوي :  
  $7.5 \times 10^{-5}$         $0.3 \times 10^{-6}$         $1.2 \times 10^{-5}$         $4.8 \times 10^{-7}$
٥. عندما ترتفع درجة حرارة عدة سيقان من الحديد بنفس المقدار , فإن أنسب خط بياني يوضح العلاقة بين طول الساق عند درجة الصفر السيليزي ( $L_0$ ) و مقدار الزيادة في طول الساق ( $\Delta L$ ) هو :



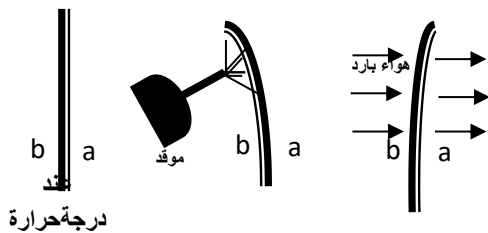
٦. ساق طولها ( 50 ) cm عند درجة حراره  $20^{\circ}C$  وضعت في ماء يغلي فأصبح طولها (50.068) cm و بالتالي فإن معامل التمدد الطولي لمادة الساق بوحدة  $(/^{\circ}C)$  يساوي:  
  $17 \times 10^{-6}$         $20 \times 10^{-6}$         $1.30 \times 10^{-6}$         $28 \times 10^4$

٧. عند تسخين الشريط ثنائي المعدن الموضح بالشكل و المكون من التحام شريط من معدن ( a ) معامل تمدده الخطي  $(2 \times 10^{-5})^{\circ}C^{-1}$  و شريط من معدن ( b ) معامل تمدده الخطي  $(1 \times 10^{-5})^{\circ}C^{-1}$  فإننا نلاحظ أن الشريط ثنائي المعدن:



- ينحني جهة الشريط ( a ) .  
 يتمدد و يبقى على استقامته .  
 لا يحدث له شيء .  
 ينحني جهة الشريط ( b ).

٨. يوضح الشكل المقابل تأثير التسخين و التبريد على شريط ثنائي المعدن يتكون من مادتين ( a ) و ( b ) و بالتالي



فإن معامل التمدد الخطي للمادة ( a ) :

- أكبر من معامل التمدد الخطي للمادة ( b ) .  
 أصغر من معامل التمدد الخطي للمادة ( b ) .  
 يساوي معامل التمدد الخطي للمادة ( b ) .  
 يساوي معامل التمدد الخطي للمادة ( b ) عند درجة الصنع .

٩. العبارة الصحيحة من العبارات التالية ، هي :

عند مد خطوط السكك الحديدية يجب تثبيت القضبان من كلا الطرفين

يفضل مد خطوط الكهرباء في فصل الصيف

عند بناء الجسور يثبت أحد الطرفين على ركائز دوارة

تستخدم المزدوجة الحرارية في تثبيت خطوط السكك الحديدية

١٠. إذا كان معامل التمدد الخطي للألومنيوم  $23 \times 10^{-6} \text{ } ^\circ\text{C}^{-1}$  فإن معامل التمدد الحجمي له بوحدة  $(^\circ\text{C}^{-1})$  يساوي :

$7.66 \times 10^{-6}$    $23 \times 10^{-6}$    $46 \times 10^{-6}$    $69 \times 10^{-6}$

١١. سائل معامل تمدده الظاهري  $(2 \times 10^{-6}) \text{ } ^\circ\text{C}^{-1}$  موضوع في إناء معامل تمدده الخطي  $(1 \times 10^{-6}) \text{ } ^\circ\text{C}^{-1}$  فإن معامل

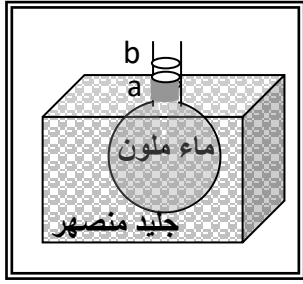
تمدده الحقيقي بوحدة  $(^\circ\text{C}^{-1})$  يساوي :

$3 \times 10^{-6}$    $5 \times 10^{-6}$    $7 \times 10^{-6}$    $9 \times 10^{-6}$

١٢. وضع سائل معامل تمدده الحقيقي  $(924 \times 10^{-6}) \text{ } ^\circ\text{C}^{-1}$  في إناء معامل تمدده الحجمي  $(24 \times 10^{-6}) \text{ } ^\circ\text{C}^{-1}$  فإن معامل

التمدد الظاهري للسائل بوحدة  $(^\circ\text{C}^{-1})$  يساوي:

$2.4 \times 10^{-5}$    $90 \times 10^{-5}$    $92.4 \times 10^{-5}$    $94.8 \times 10^{-5}$



١٣. عند وضع دورق زجاجي مملوء بالماء الملون في درجة حرارة الغرفة ومسدود بسدادة

تتفد منها أنبوبة شعرية في حوض به جليد آخذ في الانصهار كما بالشكل المقابل

فإن سطح الماء الملون في الأنبوبة الشعرية :

ينخفض أولاً ثم يرتفع متجاوزاً المستوى ( a ) .

ينخفض ويستمر في الانخفاض بمرور الزمن .

يرتفع أولاً ثم ينخفض تحت المستوى ( a ) .

يرتفع أولاً ثم يثبت لفترة ثم يعاود الارتفاع .

١٤. مكعب من النحاس حجمه  $500 \text{ cm}^3$  عند درجة  $(20) \text{ } ^\circ\text{C}$  سخن إلى درجة  $(220) \text{ } ^\circ\text{C}$  , فإن الزيادة في حجمه بوحدة

$\text{cm}^3$  تساوي : [علماً بأن معامل التمدد الحجمي للنحاس يساوي]

1.7  0.17   $1.7 \times 10^{-4}$    $1.7 \times 10^{-6}$

١٥. مكعب من النحاس حجمه  $500 \text{ cm}^3$  عند درجة  $(20) \text{ } ^\circ\text{C}$  سخن إلى درجة  $(220) \text{ } ^\circ\text{C}$  , فإزداد حجمه

بمقدار  $0.17 \text{ cm}^3$  فإن معامل تمدده الحجمي بوحدة  $(/^\circ\text{C})$  يساوي :

1.7  0.17   $1.7 \times 10^{-6}$  خطأ! الإشارة المرجعية غير معروفة.   $1.7 \times 10^{-5}$

١٦. مكعب من النحاس حجمه  $500 \text{ cm}^3$  عند درجة  $(20) \text{ } ^\circ\text{C}$  سخن إلى درجة  $(220) \text{ } ^\circ\text{C}$  , فإزداد حجمه بمقدار

فإن  $0.17 \text{ cm}^3$  , فإن معامل تمدده الطولي بوحدة يساوي :

5.1  0.51   $5.66 \times 10^{-7}$    $5.55 \times 10^{-5}$

١٧. حلقة من الحديد نصف قطرها  $6 \text{ cm}$  عند درجة حرارة  $(30) \text{ } ^\circ\text{C}$  , رفعت درجة حرارتها بمقدار  $(80) \text{ } ^\circ\text{C}$  فإن مقدار

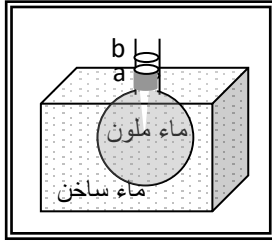
الزيادة في حجمها بوحدة  $(\text{cm}^3)$  تساوي : [إذا علمت ان  $(\beta_{Fe} = 3.33 \times 10^{-6} / ^\circ\text{C})$ ]

0.150   $15 \times 10^{-6}$   1.1   $1.5 \times 10^{-6}$

السؤال الخامس :

- علل لما يلي تعليلا علميا صحيحا:

١. تتمدد جميع المواد ( صلبة أم سائلة أم غازية) عند رفع درجة حرارتها و تتكماش عند انخفاضها.  
.....
٢. يتم تصنيع أنواع من الزجاج لها معامل تمدد حراري صغير.  
.....
٣. التغير في حجم الغازات نتيجة لتغير درجة الحرارة أو ( الضغط ) يكون بمقدار أكبر من التغير الذي يحدث للسوائل و الصلبة .  
.....
٤. يستخدم الترموستات ( المنظم الحراري ) في فتح و غلق الدوائر الكهربائية عند درجات حرارة محددة.  
.....
٥. انحناء المزدوجة باتجاه المادة التي لها معامل تمدد أقل .  
.....



٦. إذا وضع ورق يحوي ماء ملون في إناء به ماء ساخن فإننا نلاحظ أن سطح الماء الملون ينخفض أولاً إلى ( a ) , ثم يرتفع إلى ( b ) .  
.....  
.....

٧. تنحني المزدوجة الحرارية ناحية الحديد عندما تسخن .  
.....

٨. يثبت احد طرفي الجسر على ركائز دوارة .  
.....

٩. عند اجراء تجربة الكرة والحلقة نلاحظ صعوبة مرور الكرة في الحلقة بعد تسخينها تسخيناً مناسباً.  
.....

١٠. تتمدد السوائل بمقدار أكبر من تمدد الأجسام الصلبة.  
.....

السؤال السادس :- حل المسائل التالية

١- ساق من الحديد طولها 250cm ودرجة حرارتها 15°C سخنت إلى 115°C فإذا علمت أن معامل التمدد

الطولي للحديد يساوي  $12 \times 10^{-6}$  . احسب : طول الساق بعد التسخين .  
.....  
.....  
.....  
.....

٢- يزيد طول ساق من الألمنيوم بمقدار  $(0.0033 \text{ m})$  عند رفع درجة حرارته من  $(20^\circ\text{C})$  إلى  $(100^\circ\text{C})$   
احسب : الطول الأصلي للساق قبل تسخينه. إذا كان معامل التمدد الطولي للألمونيوم  $(23.1 \times 10^{-6} / ^\circ\text{C})$

.....  
.....  
.....  
.....  
.....

٣- أجريت تجربة لقياس معامل التمدد الطولي لساق معدنية ما في مختبر المدرسة، وحصلت على النتائج التالية:

الطول الأصلي للساق  $(L_0 = 0.5 \text{ m})$ ، عند درجة حرارة  $(T_1 = 0^\circ\text{C})$ ،  
وعندما سُخن الساق إلى درجة  $(T_2 = 100^\circ\text{C})$  أصبح طوله  $(L = 0.509 \text{ m})$ .  
احسب: معامل التمدد الطولي لمادة الساق المعدنية .

.....  
.....  
.....  
.....

٤- ساق من الحديد طولها  $(50.64 \text{ cm})$  عند  $(12^\circ\text{C})$ ، عند أيّ درجة حرارة يصبح طولها  $(50.75 \text{ cm})$ ،  
علمًا بأن معامل التمدد الطولي لمادتها  $(0.000012 / ^\circ\text{C})$  .

.....  
.....  
.....  
.....

٥- مسطرة من الألمنيوم تم تدرجها عند درجة  $10^\circ\text{C}$ ، فإذا استخدمت عند درجة  $40^\circ\text{C}$  لقياس طول طاولة فوجد  
انه يساوي  $60 \text{ cm}$ ، و المطلوب احسب الطول الحقيقي للطاولة اذا علمت أن  $(\alpha_{Al} = 23 \times 10^{-6} / ^\circ\text{C})$  .

.....  
.....  
.....  
.....

٦- وعاء من الحديد حجمه  $0.55\text{m}^3$  عند درجة  $20^\circ\text{C}$

أحسب:

حجمه عند  $100^\circ\text{C}$  علماً بأن معامل التمدد الطولي للحديد  $(\alpha_{Fe} = 1.1 \times 10^{-5} / ^\circ\text{C})$ .

.....

.....

.....

.....

.....

.....

.....

.....

.....

.....

٧- يسخن ورق يحوي  $50\text{cm}^3$  من سائل من الدرجة  $10^\circ\text{C}$  إلى الدرجة  $150^\circ\text{C}$  فأصبح حجمه  $52\text{cm}^3$

احسب: معامل التمدد الحقيقي لهذا السائل .

.....

.....

.....

.....

.....

.....

.....

.....

.....

.....

٨- ما حجم الزئبق المنسكب من إناء حجمه  $200\text{cm}^3$  إذا ارتفعت درجة حرارة الإناء بمقدار  $30^\circ\text{C}$  مع العلم

بأن معامل التمدد الطولي للزجاج و معامل التمدد الحقيقي للزئبق على الترتيب هما :

$$(\alpha_g = 11 \times 10^{-6} / ^\circ\text{C}) - (\alpha_{Hg} = 1.82 \times 10^{-6} / ^\circ\text{C})$$

.....

.....

.....

.....

.....

.....

.....

.....

.....

.....



الحرارة وتغير الحالة

الدرس(٢-١) : التبخر والتكثف

السؤال الاول:- اكتب بين القوسين الاسم أو المصطلح العلمي الذي تدل عليه كل من العبارات التالية:

١. متوسط طاقة حركة الجزيء الواحد في المادة. ( ..... )
٢. عملية تغير المادة من الحالة السائلة إلى الحالة الغازية عند ارتفاع درجة الحرارة. ( ..... )
٣. عملية تحول المادة من الحالة الغازية إلى الحالة السائلة عند انخفاض درجة الحرارة. ( ..... )
٤. سحب يتكون بالقرب من الأرض ويظهر في المناطق الرطبة القريبة من الأرض. ( ..... )
٥. جزيئات بخار ماء تكثفت على جسيمات الغبار الموجودة في الجو. ( ..... )

السؤال الثاني :-أكمل العبارات التالية بما يناسبها علمياً:

١. تختلف درجة الحرارة التي تتبخر عندها السوائل باختلاف.....
٢. عندما ترتفع طاقة الجزيئات الموجودة على سطح السائل عن متوسط الطاقة الحركية داخل السائل فيحدث.....وتقل الطاقة الحركية للجزيئات المتبقية و ..... درجة حرارة السائل.
٣. نشعر ..... عند وضع كمية من الكحول بيدنا.
٤. عندما تتبخر جزيئات السائل.....درجة حرارته.
٥. لبخار الماء فرصه اكبر في التكثف عند درجات الحرارة.....
٦. عملية التكثف عملية عكسية ل.....
٧. يتبخر الكحول ..... بسرعة لأن قوى التجاذب بين جزيئاته.....
٨. تبخر مياه البحار و الأنهار يرافقه شعورنا بالبرد نتيجة.....
٩. التكثيف عملية معاكسة.....
١٠. عند توفر بخار ماء كاف في الجو و نتيجة لتصادم بعض جزيئات البخار البطيئة والتصاقها ببعض عند درجات الحرارة المرتفعة يمكن أن يحدث..... بالهواء.
١١. نتيجة لتكثف جزيئات البخار على جسيمات الغبار الموجودة بالجو عندما يبرد الهواء الساخن المتصاعد للأعلى يسبب تكون.....
١٢. يكون السائل في حالة اتزان لأن لكل من عمليتي التبخر والتكثف تأثيرا.....حيث يحدث التبخر والتكثف دائما بمعدلات.....

السؤال الثالث:

ضع بين القوسين علامة (✓) أمام العبارة الصحيحة وعلامة (✗) أمام العبارة غير الصحيحة لكل مما يلي:

١. ( ) يحدث التبخر دائماً عند سطح أي سائل .
٢. ( ) تختلف درجة الحرارة التي تتبخر عندها السوائل باختلاف نوع السائل .
٣. ( ) التبخر له تأثير التبريد لأنه عندما ترتفع طاقة الجزيئات الموجودة على سطح السائل عن متوسط الطاقة الحركية داخل السائل فتتبخر و تقل الطاقة الحركية للجزيئات المتبقية و تنخفض درجة حرارتها .
٤. ( ) تبخر مياه البحار و الأنهار يرافقه شعورنا بالبرد نتيجة لاكتساب الماء طاقة من الجو .
٥. ( ) التكثيف عملية معاكسة للتبخير .
٦. ( ) يمكن أن يحدث التكثف بالهواء عند درجات الحرارة المرتفعة نتيجة لتصادم بعض جزيئات البخار البطيئة والتصاقها ببعض عند توفر بخار ماء كاف في الجو .
٧. ( ) تتكون السحب بسبب تكثف جزيئات البخار على جسيمات الغبار الموجودة بالجو عندما يبرد الهواء الساخن المتصاعد للأعلى .
٨. ( ) إن الجزيئات والطاقة التي تتحرر من سطح السائل عن طريق التبخر يتم معادلتها عن طريق الجزيئات والطاقة العائدة في عملية التكثيف .
٩. ( ) يبرد السائل إذا زاد التبخر على التكثيف و يسخن السائل إذا زاد التكثيف على التبخر.
١٠. ( ) السحب تتكون نتيجة تكثف جزيئات الهواء على جسيمات الغبار الموجودة في الجو .
١١. ( ) يحدث التبخر والتكثف دائماً بمعدلات متساوية في الوقت نفسه و لكن لكل منهما تأثيراً متعارضاً.
١٢. ( ) زيادة الضغط على سطح السائل يقلل من سرعة تبخر السائل لأن زيادة الضغط على السائل يؤدي إلى تكثف الجزيئات المتبخرة الى السائل مرة أخرى .
١٣. ( ) تزداد سرعة التبخر بزيادة مساحة سطح السائل بسبب أن زيادة السطح تجلب عدداً أكبر من الجزيئات ذات الطاقة العالية الى جوار السطح مما يمكنها من الانفلات قبل أن تفقد طاقتها الحركية عبر الاصطدامات.

السؤال الرابع:

ضع علامة (✓) في المربع المقابل لأنسب إجابة أو تكملة صحيحة لكل من العبارات التالية .

١. تغيير من الحالة السائلة إلى الحالة الغازية عند ارتفاع درجة الحرارة تسمى :  
 التكثيف       التبخر       التجمد       الانصهار
٢. تغيير من الحالة الغازية إلى الحالة السائلة تسمى :  
 التكثيف       التبخر       التجمد       الانصهار
٣. يحدث التبخر دائماً :  
 في باطن السائل       عند سطح السائل       في جميع نقاط السائل       كل الإجابات خطأ

٤. التبخر له تأثير التبريد لأنه :

- تقل الطاقة الحركية للجزيئات المتبقية و تنخفض درجة حرارتها .
- تزداد الطاقة الحركية للجزيئات المتبقية و تنخفض درجة حرارتها .
- تقل الطاقة الحركية للجزيئات المتبقية و تزداد درجة حرارتها .
- تزداد الطاقة الحركية للجزيئات المتبقية و تزداد درجة حرارتها .

٥. تشعر بالبرودة عند وضع كمية من الكحول بيدك لأن :

- الكحول يتبخر ببطء لأن قوى التجاذب بين جزيئاته قوية .
- الكحول يتبخر ببطء لأن قوى التجاذب بين جزيئاته ضعيفة.
- الكحول يتبخر بسرعة لأن قوى التجاذب بين جزيئاته قوية .
- الكحول يتبخر بسرعة لأن قوى التجاذب بين جزيئاته ضعيفة.

٦. يكون السائل في حالة اتزان حراري تشعر بالبرودة عندما :

- يزداد التبخر على التبريد وتبقى درجة حرارة السائل ثابتة .
- يحدث التبخر و التكثيف دائما بمعدلات متساوية .

يزداد التبخر على التكثيف .

عندما تكون القوى بين جزيئات السائل قوية جدا .

٧. يبرد السائل عندما :

يزداد التبخر على التكثيف .

يحدث التبخر و التكثيف دائما بمعدلات متساوية .

يزداد التكثيف على التبخر .

عندما تكون القوى بين جزيئات السائل قوية جدا .

٨. يسخن السائل عندما :

يزداد التبخر على التكثيف .

يزداد التكثيف على التبخر .

يحدث التبخر و التكثيف دائما بمعدلات متساوية .

عندما تكون القوى بين جزيئات السائل ضعيفة جدا .

٩. يعتبر التكثيف عملية تدفئة لأن :

السائل يمتص حرارة من الوسط .

السائل يطرد حرارة إلى الوسط .

لأن الغاز يمتص حرارة من الوسط .

لأن الغاز يطرد حرارة على الوسط .

**السؤال الخامس :**

أكمل جدول المقارنة التالي حسب وجه المقارنة المطلوب .

وجه المقارنة	التبخير	التكثيف
كيفيه حدوثه		
تأثيره على الوسط المحيط		
وجه المقارنة	السحب	الضباب
كيفيه حدوثه		
الوقت الذي يتكون فيه		
مكان تكونه		

**السؤال السادس :**

**- علل لما يأتي تعليلا علميا صحيحا :**

١- التبخر له تأثير التبريد.

.....

٢- يتبخر الكحول بشكل أسرع من الماء .

.....

٣- الحرق بالبخار أكثر ضرراً من الحرق بالماء المغلي الذي له درجة حرارة البخار نفسها

.....

٤- يعتبر التكثف عملية تدفئة .

.....

٥- تزداد فرصة التكثف في الهواء عند درجات حرارة منخفضة .

.....

٦- عندما يبرد الهواء الساخن المتصاعد لأعلى تتكون السحب

.....

السؤال السابع:

ماذا يحدث في كل من الحالات التالية

١- اصطدام جزيئات بخار الماء مع جزيئات بطيئة الحركة موجودة عند سطح السائل .

.....  
.....

٢- إذا زاد التبخر عن التكثف.

.....  
.....

٣- إذا زاد التكثف عن التبخر.

.....  
.....

٤- عندما تتساوى الرطوبة المتكثفة على الجلد مع الرطوبة المتبخرة.

.....  
.....

الدرس(٢-٢) : الغليان والتجمد

السؤال الاول:- اكتب بين القوسين الاسم أو المصطلح العلمي الذي تدل عليه كل من العبارات التالية:

١. متوسط طاقة حركة الجزيء الواحد في المادة. ( .....
٢. تغير المادة من الحالة السائلة إلى الحالة الغازية تحت سطح السائل. ( .....
٣. الدرجة التي يكون عندها ضغط بخار الماء المشبع مساويا للضغط الجوي الواقع على سطح السائل . ( .....
٤. أواني لا تسمح للبخار بالتسرب إلى الخارج مما يؤدي إلى ارتفاع الضغط داخلها حتى يصبح أعلى من الضغط الجوي. ( .....
٥. ظاهرة الانصهار تحت تأثير الضغط ثم العودة إلى التجمد بعد انخفاضه . ( .....

السؤال الثاني:- ضع علامة ( ✓ ) أمام العبارة الصحيحة وعلامة ( ✗ ) أما العبارة الغير صحيحة

١. ( ) تتناسب درجة حرارة الغاز المثالي مع متوسط الطاقة الحركية لجزيئات الغاز سواء كانت الحركة في خط - تزداد درجة الغليان بزيادة الضغط الواقع على سطح السائل .
٢. ( ) ترتفع درجة تجمد السائل عند إضافة مادة مذابة فيه .
٣. ( ) ارتفاع الضغط يخفض درجة انصهار الجليد .
٤. ( ) إذا خفف الضغط على الماء في جهاز التفريغ الكهربائي يحدث له عمليتي غليان وتجمد في نفس الوقت
٥. ( ) درجة التجمد اكبر من درجة الانصهار للمادة النقية الواحدة .
٦. ( ) يرافق الغليان عملية تسخين في الغرف المفرغة من الهواء .

السؤال الثالث :-أكمل العبارات التالية بما يناسبها علمياً

- ١- يظهر الغليان تحت سطح السائل على شكل .....
- ٢- زيادةالضغط المؤثر على سطح سائل يؤدي إلى .....درجة الغليان .
- ٣- يغلي السائل عندما يصبح ضغط البخار المشبع داخل فقاعاته مساويا .....
- ٤- عندما يزداد الضغط .....كثافة السائل
- ٥- عند انخفاض درجة الحرارة .....طاقة حركة الجزيئات
- ٦- بزيادة الضغط المؤثر على الجليد.....درجة الانصهار
- ٧- تعمل أواني الضغط على منع .....من التسرب
- ٨- تتوقف درجة غليان السائل على ..... و .....
- ٩- درجة التجمد ..... درجة الانصهار للمادة النقية الواحدة .
- ١٠- زياده الايونات الذائبة تؤدي الى .....درجه حراره الانصهار

السؤال الرابع :- علل لما يأتي تعليلا علميا صحيحا

١- عند إضافة مادة مذابة في السائل كالمح و السكر تنخفض درجة التجمد .

٢- ترتفع درجة الغليان لسائل بزيادة الضغط الجوي الواقع على سطح السائل .

٣- تستخدم طنجرة (أواني ) الضغط في سرعة طهي الطعام.

٤- عند الضغط على مكعبين من الثلج باليد ثم تركهما يلتصق المكعبان.

السؤال الخامس:- قارن بين كل مما يلي على حسب وجه المقارنة

السؤال السادس:- ماذا يحدث في الحالات الآتية

وجه المقارنة	التبخر	الغليان
كيفية حدوثه	.....	.....
مكان حدوثه	.....	.....
درجة الحرارة التي يحدث عندها	.....	.....
حركة الجزيئات	.....	.....

١- في الشكل المقابل : وضع سلك رفيع مربوط به ثقيلين علي مكعب الثلج كما هو موضح بالشكل.

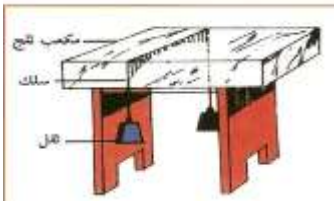
الحدث :

التفسير :

٢- نثر الملح على الجليد عندما يملأ الطرقات في البلدان الباردة أثناء الشتاء .

الحدث :

التفسير :



الدرس (٢-٣) : الطاقة وتغير الحالة

السؤال الاول :اكتب بين القوسين الاسم أو المصطلح العلمي الذي تدل عليه كل من العبارات التالية:

١. كمية الحرارة اللازمة لتغيير حالة وحدة الكتل . ( ..... )
٢. كمية الطاقة Q التي تعطى إلى وحدة الكتل من المادة الصلبة m وتؤدي إلى تحولها إلى الحالة السائلة. ( ..... )
٣. كمية الطاقة Q التي تعطى إلى وحدة الكتل m من السائل وتؤدي إلى تحول وحدة الكتل هذه إلى الحالة الغازية . ( ..... )

السؤال الثاني :- أكمل العبارات التالية بما يناسبها علمياً

- ١- عند اكتساب المادة للطاقة الحرارية يتغير إما ..... أو ..... .
- ٢- أثناء تغير الحالة الفيزيائية للمادة تكون ..... ثابتة.
- ٣- عندما تكتسب المادة كمية كافية من الطاقة الحرارية ..... حالتها الفيزيائية .
- ٤- كمية الحرارة اللازمة لتغيير حالة مادة يتناسب ..... مع كتلة المادة .
- ٥- تكون الحرارة الكامنة للتصعيد لمادة معينة ..... الحرارة الكامنة لانصهار المادة نفسها
- ٦- عددياً الحرارة الكامنة للتجمد ..... الحرارة الكامنة للانصهار .
- ٧- الحرارة الكامنة المنطلقة أثناء التكثف ..... الحرارة الكامنة الممتصة أثناء للتبخر .

السؤال الثالث ضع بين القوسين علامة (✓) أمام العبارة الصحيحة و علامة ( × ) أمام العبارة غير الصحيحة :

١. ( ) عندما تكتسب مادة كمية من الطاقة الحرارية فإن درجة حرارتها ترتفع دائماً .
٢. ( ) عندما تكتسب قطعة من الجليد درجة حرارتها  $^{\circ}\text{C} (-20)$  كمية من الطاقة الحرارية فإنها سوف تبدأ بالانصهار مباشرة .
٣. ( ) عندما تكتسب قطعة من الجليد درجة حرارتها  $^{\circ}\text{C} (0)$  كمية من الطاقة الحرارية فإنها سوف تبدأ بالانصهار مباشرة .
٤. ( ) أثناء تغير الحالة الفيزيائية للمادة فإن ذلك يرافقه ارتفاعاً في درجة الحرارة .
٥. ( ) تختلف كمية الطاقة الحرارية اللازمة لانصهار مادة ما باختلاف نوع المادة عند ثبات الكتلة.
٦. ( ) جميع المواد تحتاج نفس الكمية من الطاقة الحرارية لكي تنصهر بشرط أن تكون المادة موجودة عند درجة انصهارها .
٧. ( ) كمية الطاقة الحرارية اللازمة لتغيير حالة المادة تتناسب تناسبا عكسياً مع كتلة المادة .
٨. ( ) وحدة قياس الحرارة الكامنة للانصهار هي  $J / kg$  .



## وزارة التربية-التوجيه الفني للعلوم -بنك أسئلة الصف الحادي عشر العلمي-الكتاب الثاني

٩. ( ) كمية الطاقة الحرارية اللازمة لانصهار المادة بالكامل تقاس بوحدة الجول .
١٠. ( ) اصطلاح على أن تعتبر الطاقة الحرارية موجبة عند التحول من الحالة السائلة إلى الحالة الصلبة .
١١. ( ) الحرارة الكامنة للتصعيد أكبر من الحرارة الكامنة للانصهار.
- السؤال الرابع : ضع علامة ( ✓ ) في المربع المقابل لأنسب إجابة لتكمل بها كل من العبارات التالية :**
١. عندما يكون النظام الحراري معزولاً , فإن :

- كمية الحرارة التي تخسرها المادة الساخنة تكتسبها المادة الباردة بالتفاعل مع المحيط .
- كمية الحرارة التي تخسرها المادة الساخنة تكتسبها المادة الباردة من دون أي تفاعل مع المحيط .
- مجموع الحرارة المتبادلة بين مختلف مكونات المزيج لا يساوي صفر
- مجموع الحرارة المتبادلة بين مكونات المزيج و الوسط المحيط لا يساوي صفر

٢. كمية الحرارة اللازمة لتغيير حالة كتلة معينة من المادة يتناسب طردياً مع :

- حجم المادة       نوع المادة       كتلة المادة       حالتها الفيزيائية

٣. عند مقارنة الحرارة الكامنة لانصهار الجليد و الحرارة الكامنة لتجمد الماء نجد أن :

	الحرارة الكامنة لانصهار الجليد	الحرارة الكامنة لتجمد الماء
<input type="checkbox"/>	أصغر	أكبر
<input type="checkbox"/>	أكبر	أصغر
<input type="checkbox"/>	متساويتان	
<input type="checkbox"/>	لا توجد علاقة بينهما	

٤. عند مقارنة الحرارة الكامنة لتصعيد مادة مع الحرارة الكامنة لتكثفها نجد أن :

	الحرارة الكامنة للتصعيد	الحرارة الكامنة للتجمد
<input type="checkbox"/>	أصغر	أكبر
<input type="checkbox"/>	أكبر	أصغر
<input type="checkbox"/>	متساويتان	
<input type="checkbox"/>	لا توجد علاقة بينهما	

٥. عند مقارنة الحرارة الكامنة لانصهار مادة و الحرارة الكامنة لتصعيدها نجد أن :

	الحرارة الكامنة لانصهار المادة	الحرارة الكامنة لتجمدها
<input type="checkbox"/>	أصغر	أكبر
<input type="checkbox"/>	أكبر	أصغر
<input type="checkbox"/>	متساويتان	
<input type="checkbox"/>	لا توجد علاقة بينهما	

٦- كمية الطاقة الحرارية التي تمتصها المادة أثناء تغيير حالتها تكون :

- موجبة       سالبة       متعادلة       ضعيفة

## وزارة التربية-التوجيه الفني للعلوم -بنك أسئلة الصف الحادي عشر العلمي-الكتاب الثاني

٧- أثناء تحول الجليد إلى ماء فإنه :

- يكتسب حرارة وتبقى درجة حرارته ثابتة .  
 يفقد حرارة وتنخفض درجة حرارته .  
 يفقد حرارة وتبقى درجة حرارته ثابتة .  
 يفقد حرارة وتنخفض درجة حرارته .

٨- إذا علمت أن حرارة انصهار الفضة هي  $L_f = (1.05 \times 10^5) J/Kg$  فإن كمية الطاقة الحرارية اللازمة لسخن كتلة من الفضة قدرها  $2) Kg$  دون تغيير في درجة حرارتها تساوي بوحدة الجول:

- $25 \times 10^4$         $12 \times 10^4$         $21 \times 10^4$         $30 \times 10^4$

٩- العبارات التالية صحيحة ، عدا عبارة واحدة منها غير صحيحة ، وهي :  
 عند انصهار المادة تثبت درجة الحرارة إلى أن يتم انصهارها كلياً.

- تختزن الطاقة التي تمتصها المادة خلال انصهارها على شكل طاقة وضع تسمى الطاقة الكامنة للانصهار.  
 درجة الحرارة التي تبدأ عندها المادة في الانصهار تسمى درجة الانصهار.  
 تظل درجة حرارة المادة في الارتفاع خلال انصهارها.

١٠- تتوقف الحرارة الكامنة للانصهار  $L_f$  على :

- كتلة المادة       درجة الحرارة       زمن التسخين       نوع المادة

١١- إذا علمت أن حرارة انصهار الجليد  $L_f = (3.33 \times 10^5) J/Kg$  فإن كمية الحرارة اللازمة لتحويل

قطعة من الجليد كتلتها  $250) gm$  عند درجة حرارة  $(0^\circ C)$  إلى ماء عند نفس الدرجة بوحدة الجول تساوي :

- $0.0$         $83250$         $336 \times 10^5$         $13.44 \times 10^5$

١٢- أثناء تحول الثلج إلى ماء سائل فإنه :

- يكتسب حرارة وتبقى درجة حرارته ثابتة.  
 يفقد حرارة وتبقى درجة حرارته ثابتة.  
 يكتسب حرارة وترتفع درجة حرارته .  
 يفقد حرارة وتنخفض درجة حرارته.

١٣- أثناء تحول الماء السائل إلى ثلج فإنه :

- يفقد حرارة وتنخفض درجة حرارته.  
 يكتسب حرارة وتنخفض درجة حرارته.  
 يفقد حرارة وتبقى درجة حرارته ثابتة.  
 يكتسب حرارة وتبقى درجة حرارته ثابتة.

١٤- إذا علمت أن الطاقة الحرارية اللازمة لانصهار كمية من الجليد تساوي  $(37800J)$  فإن كتلة الجليد

المنصهر تساوي بوحدة الكيلو جرام :  
[علماً بأن  $L_f = (3.33 \times 10^5) J/Kg$  للجليد ]

- $112.5$         $1.125$         $11.25$         $0.1125$

السؤال الخامس : - علل لما يلي تعليلا علميا صحيحا :

١- ثبات درجة حرارة المادة الصلبة أثناء عملية الانصهار رغم اكتسابها مزيد من الطاقة الحرارية .

.....  
.....

٢ - ثبات درجة حرارة المادة السائلة أثناء عملية التبخير رغم اكتسابها كميات إضافية من الطاقة الحرارية.

.....  
.....

٣- الحرارة الكامنة للتصعيد لمادة معينة تكون اعلى من الحرارة الكامنة للانصهار لنفس المادة .

.....  
.....

٤- لا تتغير قراءة الترمومتر في أنبوبة اختبار بها جليد على لهب.

.....  
.....

٥- لا تتغير قراءة الترمومتر في أنبوبة اختبار ماء مغلي.

.....  
.....

٦- إضافة قطعة جليد عند درجة صفر سيليسيوس إلى شراب في درجة حرارة الغرفة تكون أكثر فاعلية في

تبريده.

.....

السؤال السادس :

أ - أكمل جدول المقارنة التالي حسب وجه المقارنة المطلوب .

كمية الحرارة اللازمة لإحداث تغير الحالة	الحرارة الكامنة للمادة	من حيث
		الرمز
		التعريف
		وحدة القياس
		العوامل التي تتوقف عليها
		تعتبر من خصائص المادة
		علاقتها بالكتلة
		مقدارها ( ثابت - متغير )

الحرارة الكامنة للانصهار	الحرارة الكامنة للتصعيد	
		الرمز
		التعريف
		وحدة القياس
		العوامل

**السؤال السادس :-**



بناءً على نتائج دراستك العملية أرسم على المحاور البيانية  $(T(^{\circ}C), t(s))$  الخط البياني الممثل لتغير درجة حرارة قطعة جليد بدلاله زمانالتسخين , عند تسخينها من درجة حرارة مقدارها  $^{\circ}C(-50)$  إلى أن تتحول بالكامل إلى بخار ماء عند الدرجة  $^{\circ}C(100)$  .

**السؤال السابع :**

**- حل المسائل التالية**

١- مستعينا بالبيانات على الخط البياني

احسب : كمية الطاقة الحرارية اللازمة لتحويل كميته من

الجليد كتلتها  $kg(0.1)$  إلى ماء

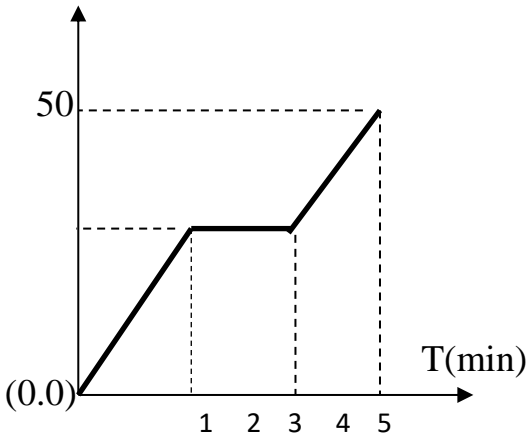
إذا علمت أن :

$$L_f = (3.33 \times 10^5) J/Kg$$

$$L_v = (2.26 \times 10^6) J/Kg$$

$$c_{ice} = (2100) J/Kg.K$$

$$c_{water} = (4190) J/Kg.K \quad c_{steam} = (2010) J/Kg.K$$



.....

.....

.....

.....

.....

.....

.....

.....

.....

.....

وزارة التربية-التوجيه الفني للعلوم -بنك أسئلة الصف الحادي عشر العلمي-الكتاب الثاني

٢- احسب: كمية الطاقة الحرارية اللازمة لتحويل 200g من الجليد درجة حرارته 0°C إلى ماء 40°C إذا علمت أن السعة الحرارية النوعية للماء K. 4200J/kg والحرارة الكامنة لانصهار الجليد  $3.35 \times 10^5 \text{J/kg}$

.....  
.....  
.....  
.....

٣- احسب: كمية الطاقة الحرارية اللازمة لتحويل 100g من الجليد في درجة صفر سلسيوس إلى ماء في درجة حرارة 25°C علماً بأن: السعة الحرارية النوعية للماء K. 4186J/kg و  $L_f = 3.36 \times 10^5 \text{J/kg}$

.....  
.....  
.....  
.....

٤- احسب: كمية الحرارة اللازمة لتحويل 100g من الجليد من درجة حرارة 10°C إلى بخار 100°C علماً بأن C = 4200 J/kg K للماء، C = 2100 J/kg K للجليد  $L_v = 2.23 \times 10^6 \text{J/K}$  و  $L_f = 3.36 \times 10^5 \text{J/kg}$

.....  
.....

الوحدة الثالثة : الفصل الأول (الكهرباء )  
أسئلة الدرس ( ١ - ١ ) المجالات الكهربائية

**السؤال الأول :**

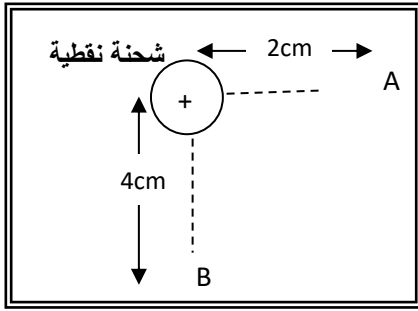
**اكتب بين القوسين الاسم أو المصطلح العلمي الذي تدل عليه كل من العبارات التالية :**

١. الحيز المحيط بالشحنة الكهربائية الذي يظهر فيه تأثير القوة الكهربائية.  
على شحنة أخرى أو أجسام مشحونة. ( )
٢. القوة الكهربائية المؤثرة على وحدة الشحنات الكهربائية الموجبة الموضوعة عند هذه النقطة. ( )
٣. اتجاه القوة الكهربائية المؤثرة على شحنة اختبار موضوعة عند نقطة . ( )
٤. خطوط غير مرئية تظهر تأثير المجال الكهربائي على الجسيمات الدقيقة المشحونة. ( )
٥. المجال الكهربائي ثابت الشدة وثابت الاتجاه في جميع نقاطه . ( )

**السؤال الثاني :**

**أكمل العبارات العلمية التالية بما يناسبها :**

١. المجال الكهربائي نموذج ( مفهوم فيزيائي ) فرض نفسه لتفسير ..... بين الأجسام .
٢. المجال الكهربائي المتولد بين لوحين موصلين مشحونين متوازيين يفصل بينهما عازل يسمى .....
٣. الشحنة الموجودة في حيز ما قادرة على دفع شحنة نقطية أخرى موجودة في مجالها وهي قادرة على انجاز شغل بسبب .....
٤. المجال الكهربائي يعتبر ..... للطاقة الكهربائية .
٥. شدة المجال الكهربائي عند نقطة تتناسب طرديا مع ..... وتتناسب ..... مع مربع البعد بينهما .
٦. الشحنة الكهربائية تؤثر عن ..... لذلك فهي تشبه قوى التجاذب بين الكتل .
٧. شدة المجال الكهربائي عند نقطة هو..... المؤثرة على شحنة اختبار موضوعة عند تلكا لنقطة مقادها  $C(1)$  .
٨. خط المجال الكهربائي يعبر عن المسار الذي تسلكه.....عندما توضع حرة الحركة في مجال كهربائي.
٩. يتميز المجال الكهربائي المنتظم بأن خطوطه ..... ، و ..... ، وبأن شدته .....



١٠- في الشكل المقابل إذا كان مقدار شدة المجال الكهربائي عن نقطة

(A) يساوي  $16 \text{ N/C}$  فإن شدة المجال الكهربائي عند نقطة B

يساوي .....  $\text{N/C}$

**السؤال الثالث :**

ضع علامة (✓) أمام العبارة الصحيحة، وعلامة (✗) أمام العبارة غير

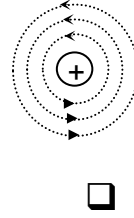
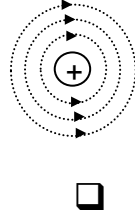
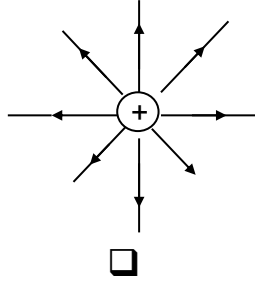
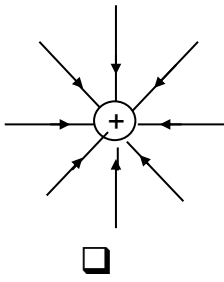
الصحيحة فيما يلي :

١. ( ) يستخدم مفهوم المجال لتفسير التفاعل بين الأجسام عن بعد .
٢. ( ) قوة التجاذب بين النواة و الإلكترونات نوع من القوى التي تعمل عن بعد .
٣. ( ) شدة المجال الكهربائي (E) كمية متجهة .
٤. ( ) يتحرك الإلكترون بسرعة منتظمة عند انتقاله من اللوح السالب إلي اللوح الموجب لمكثف مستوي مشحون.
٥. ( ) تتباعد خطوط المجال الكهربائي في مناطق ضعف المجال .
٦. ( ) يكون اتجاه المجال الكهربائي لشحنه موجب مباعدة عنها .
٧. ( ) كلما زادت شدة المجال الكهربائي فان خطوطه تتكاثف، وتتباعد كلما قلت شدته
٨. ( ) يمكن حساب قيمة شدة المجال الكهربائي المنتظم باستخدام العلاقة :  $E = \frac{k \cdot q}{d^2}$
٩. ( ) تتناسب شدة المجال الكهربائي طرديا مع بعد النقطة عن الشحنة المؤثرة .
١٠. ( ) إذا وضعت شحنة نقطية مقدارها C ( 2 ) عند نقطة في مجال كهربائي فتأثرت بقوة مقدارها N ( 5 ) فإن شدة المجال عند تلك النقطة تساوي  $10 \text{ N/C}$ .
١١. ( ) شدة المجال عند نقطة تبعد m ( 1 ) عن شحنة كهربائية مقدارها C ( 1 ) تساوي ( K ) .
١٢. ( ) إذا وضع جسيم بين لوحين مكثف مشحون ولم يتأثر بأي قوة فإن هذا الجسيم يحتمل أن يكون نيوترون .
١٣. ( ) إذا كانت خطوط المجال الكهربائي خطوط مستقيمة ومتوازية ومتساوية البعد عن بعضها البعض فهذا يعني أن المجال منتظم .
١٤. ( ) لا يمكن أن يتقاطع خيطان من خطوط المجال الكهربائي.

السؤال الرابع :

ضع علامة ( ✓ ) في المربع المقابل لأنسب إجابة أو تكمله صحيحة لكل من العبارات التالية

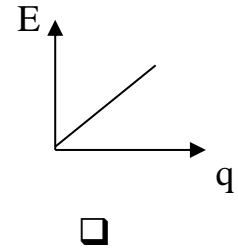
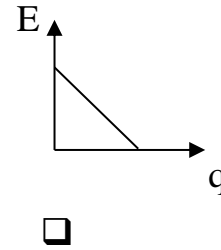
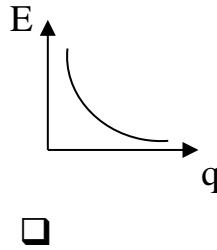
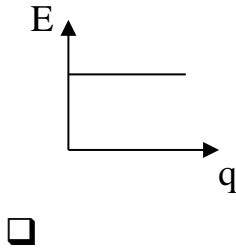
١. أحد الأشكال التالية يوضح بشكل صحيح تخطيط المجال الكهربائي المتولد حول شحنة نقطية موجبة :



٢. يتحرك إلكترون في مجال كهربائي منتظم شدته  $(10^5)N/C$  فإن القوة المؤثرة على الإلكترون بوحدة (N) تساوي :

$1.6 \times 10^{-14}$    $1.6 \times 10^{-24}$    $5.7 \times 10^{-7}$    $1.1 \times 10^{25}$

٣. الرسم البياني الذي يمثل تغير شدة المجال الكهربائي (E) حول شحنة نقطية و مقدار هذه الشحنة (q) هو :



٤. شدة المجال الكهربائي الذي تحدته شحنة كهربائية نقطية مقدارها  $(4+)\mu C$  عند نقطة تبعد عنها m (2) تساوي

بوحدة N/C :

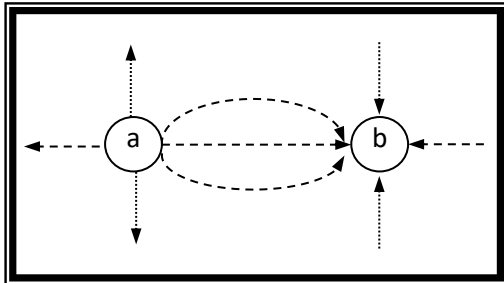
$9 \times 10^6$

$9 \times 10^3$

$1 \times 10^{-3}$

$1 \times 10^{-6}$

٥. الرسم التخطيطي المجاور يمثل المجال الكهربائي لشحنتين نقطيتين متجاورتين ( a , b ) و منه تكون :



q <sub>b</sub>	q <sub>a</sub>	
سالبة	موجبة	<input type="checkbox"/>
موجبة	سالبة	<input type="checkbox"/>
سالبة	سالبة	<input type="checkbox"/>
موجبة	موجبة	<input type="checkbox"/>



## وزارة التربية-التوجيه الفني للعلوم -بنك أسئلة الصف الحادي عشر العلمي-الكتاب الثاني

٦. شحنتان كهربائيتان نقطيتان مختلفتان في النوع متساويتان في المقدار ، البعد بينهما في الهواء (d) وشدة المجال الناتج عن كل شحنة منهما عند منتصف المسافة بينهما (E) ، فإن شدة المجال الناتج عن الشحنتين عند المنتصف البعد بينهما تساوي :

$E$                         $\frac{1}{2}E$                         $\frac{1}{4}E$                         $\frac{1}{8}E$

٧. شحنتان مختلفتان في النوع متساويتان في المقدار ، البعد بينهما في الهواء (d) وشدة المجال في منتصف المسافة بينهما (E) زيد البعد بينهما إلى (2d) فإن شدة المجال عند المنتصف تصبح :

$E$                         $\frac{1}{2}E$                         $\frac{1}{4}E$                         $\frac{1}{8}E$

٨. إذا وضع بروتون في مجال كهربائي شدته (200) N/C فإنه يتأثر بقوة مقدارها بوحدة النيوتن :

200                        $3.2 \times 10^{-2}$                         $3.2 \times 10^{-17}$                         $8 \times 10^{-22}$

### السؤال الخامس :

أكمل جدول المقارنة التالي حسب وجه المقارنة المطلوب .

المجال الكهربائي غير المنتظم	المجال الكهربائي المنتظم	وجه المقارنة
		العوامل
		مثال
		خواص خطوط المجال

### السؤال السادس :

( أ ) - علل كلاً مما يلي تعليلاً علمياً دقيقاً .

١. خطوط المجال الكهربائي غير متقاطعة .

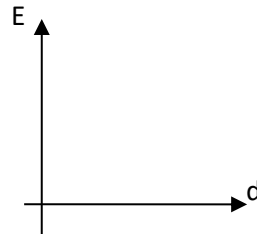
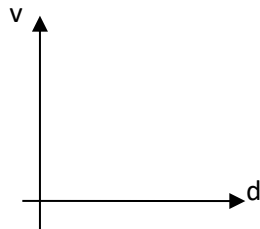
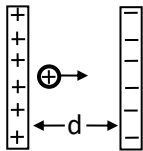
.....

٢. المجال الكهربائي لشحنة نقطية مفردة مجال غير منتظم .

.....

( ب ) - ارسم على المحورين التاليين الخط البياني المعبر عن:

العلاقة بين كل من ( شدة المجال الكهربائي و فرق الجهد) المؤثرين على حركة أيون موجب تحرر من اللوح الموجب لمكثف بتغير بعده عن اللوح الموجب .



**السؤال السابع :**

( أ ) - وضح مع التفسير ماذا يحدث في الحالات التالية :  
عند وضع بروتون في مجال كهربائي منتظم.

.....  
.....

( ب ) - وضح المقصود بكل مما يلي.

١. شدة المجال الكهربائي .

.....  
.....


٢. المجال الكهربائي المنتظم .

.....  
.....

**السؤال التاسع :**

**حل المسائل التالية :**

١. من الشكل المقابل احسب ما يلي:

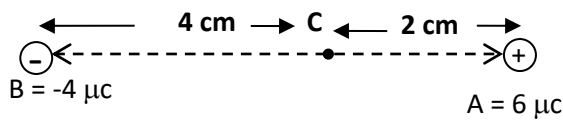


أ- شدة المجال الكهربائي عند النقطة (O)

.....  
.....

ب- القوة المؤثرة على شحنة مقدارها  $3 \mu C$  موضوعة عند النقطة (O).

.....  
.....



٢. يوضح الشكل شحنتين نقطيتين (A ، B) مقدارهما

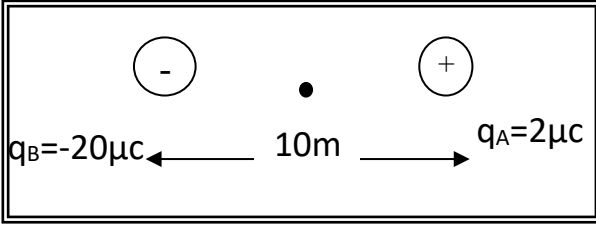
على الترتيب (  $4 \mu C$  ،  $6 \mu C$  ) وضعنا على بعد

(6) cm من بعضهما ، و المطلوب احسب :

١- شدة المجال الكهربائي الكلي عند النقطة ( C ) .

.....  
.....  
.....

٣. من الشكل :



احسب شدة المجال الكهربائي مقداراً واتجاهاً عند نقطة (C) التي تقع في منتصف المسافة بين الشحنتين مقداراً واتجاهاً .

.....

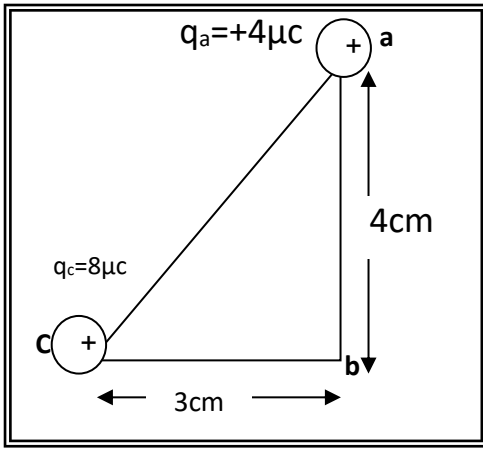
.....

.....

.....

.....

.....



٤. باستخدام البيانات على الرسم ، احسب :

- أ- شدة المجال الكهربائي واتجاهه عند النقطة (b) .
- ب- مقدار القوة الكهربائية المؤثرة على شحنة مقدارها  $4\mu\text{C}$  موضوعة عند النقطة (b) .

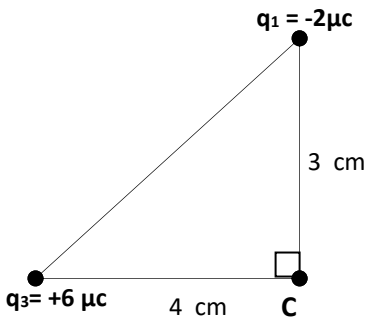
.....

.....

.....

.....

٥. في الشكل المقابل مثلث قائم الزاوية وضعت على رؤوسه الشحنت الموضحة في الشكل احسب:  
- شدة المجال الكهربائي عند النقطة (c).



.....

.....

.....

.....

.....

أسئلة الدرس ( ١ - ٢ ) - المكثفات

السؤال الأول : اكتب بين القوسين الاسم أو المصطلح العلمي الذي تدل عليه كل من العبارات التالية :

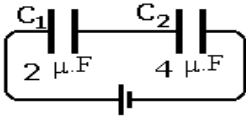
١. يتكون من لوحين متوازيين مستويين يفصل بينهما فراغ وغالبا يملأ بمادة عازلة . (.....)
٢. النسبة بين شحنة المكثف وفرق الجهد بين اللوحين . (.....)
٣. فرق الجهد المطبق على لوح المكثف والقادر على توليد شدة مجال يتخطى القيمة التي يتحملها المادة العازلة . (.....)

السؤال الثاني : أكمل العبارات العلمية التالية بما يناسبها

١. يشحن لوحا المكثف بشحنتين ..... مختلفتين .....
٢. شحنة المكثف تساوي .....
٣. النسبة بين شحنة المكثف وفرق الجهد بين اللوحين تسمى .....
٤. تقاس السعة الكهربائية بوحدة ..... و تكافئ .....
٥. تعتمد سعة المكثف المستوى على ..... و .....
٦. تتناسب سعة المكثف طرديا مع .....
٧. تتناسب سعة المكثف عكسيا مع .....
٨. عند وضع مادة عازلة بين لوحي مكثف كهربائي فإن سعته .....
٩. يمكن حساب السعة الكهربائية لمكثف كهربائية مستوي باستخدام العلاقة .....
١٠. عند وضع مادة عازلة بين لوحين مكثفهما مستوي مشحونين معزولين، فإن سعته الكهربائية تزداد، أما كمية شحنته فإنها .....
١١. تزداد السعة الكهربائية لمكثف هوائي من  $8 \mu.F$  إلى  $48 \mu.F$  عندما يملأ الزجاج الحيز بين لوحيه فيكون ثابت العازلية للزجاج مساوياً.....
١٢. لزيادة سعة مكثف هوائي يمكن ..... المساحة المشتركة للوحيه أو ..... المسافة بين اللوحين .
١٣. السعة المكافئة لعدة مكثفات موصلة علي التوالي تكون ..... من ..... سعة في الدائرة .
١٤. شحنة المكثفات في التوصيل على التوالي تكون ..... و ..... لشحنة للمكثف المكافئ
١٥. عندما تتصل عدة مكثفات علي التوالي فإن الجهد الكلي يساوي ..... مكثفات الدائرة .
١٦. عند تساوي شحنة عدة مكثفات مختلفة متصلة معا في دائرة كهربائية , فإن الجهد يتوزع بنسبة ..... مع سعة كل مكثف.
١٧. اتصلت (3) مكثفات كهربائية متساوية السعة الكهربائية على التوازي فكانت سعته المكافئة  $4.5 \mu.F$  فإذا أُعيد توصيلها على التوالي، فإن سعته المكافئة بوحدة  $\mu.F$  تساوي .....
١٨. عند زيادة المسافة بين لوحي مكثف هوائي مستوي إلي مثلي ما كانت عليه، ثم وُضعت مادة عازلة بين لوحيه ثابت عازليتها الكهربائية يساوي (2) ، فإن لسعة الكهربائية للمكثف .....
١٩. اتصلت خمسة مكثفات متساوية السعة على التوالي فكانت سعته المكافئة  $0.4 \mu.F$  . فإن سعة كل منها تساوي .....

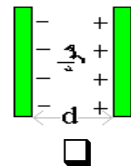
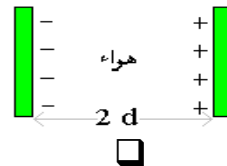
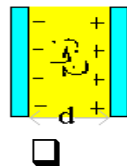
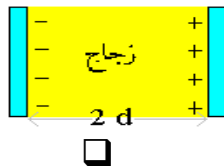
السؤال الثالث : ضع علامة (✓) أمام العبارة الصحيحة وعلامة (✗) أمام العبارة غير الصحيحة فيما يلي :

١. ( ) شحنة المكثف تساوي إلى مجموع شحنتي لوحيه .
٢. ( ) عند فصل المكثف عن البطارية فإنه يحتفظ بشحنته و لا يتم تفريغها حتى نلامس لوحيه بالأرض .
٣. ( ) تزداد السعة الكهربائية لمكثف كهربائي عند زيادة كمية شحنته .
٤. ( ) يتم اكتمال شحن المكثف عندما ينقطع مرور التيار الكهربائي في دائرته .
٥. ( ) يمر التيار الكهربائي في دائرة مكثف مستوى يتصل ببطارية عندما يتساوى الجهد الكهربائي لكل من لوحيه بالمقدار و يختلف بالنوع .
٦. ( ) للحصول على سعة كهربائية كبيرة نوصل عدة مكثفات على التوالي مع بطارية .
٧. ( ) تنعدم السعة الكهربائية للمكثف الكهربائي عند إدخال مادة عازلة بين لوحيه المشحونين.
٨. ( ) عند زيادة المسافة بين لوحي مكثف مستوي مشحون إلى مثلي قيمتها، فإن سعته تقل إلى النصف
٩. ( ) للحصول على سعة كهربائية كبيرة من عدة مكثفات مستوية، فإنها توصل معاً على التوالي .
١٠. ( ) السعة المكافئة لمجموعة مكثفات متصلة معاً على التوالي تكون أكبر من سعة أي مكثف منها .
١١. ( ) اتصلت (3) مكثفات متساوية السعة الكهربائية علي التوازي كانت سعتها المكافئة  $4.5 \mu.F$ ، فإذا أعيد توصيلها علي التوالي ،فإن سعتها المكافئة تصبح  $0.5 \mu.F$ .
١٢. ( ) المكثف ( $C_1$ ) المتصل بالدائرة الموضحة في الشكل المجاور يخترن طاقه كهربائية اكبر من الطاقة التي يخترنها ( $C_2$ ) .
١٣. ( ) إذا كانت شحنة المكثف ( $C_1 = 8\mu F$ ) المتصل بالدائرة الموضحة في الشكل السابق فان شحنة المكثف ( $C_2 = 16\mu F$ )
١٤. ( ) الطاقة الكهربائية المخترنة في المكثف تتناسب طردياً مع مربع فرق الجهد بين طرفيه .



السؤال الرابع : ضع علامة (✓) في المربع المقابل لأنسب إجابة أو تكلمة صحيحة لكل من العبارات التالية:

١. مكثف مستوي مشحون شحنة كل من لوحيه  $10 \mu.C$ ، فإن شحنة المكثف الكلية بوحدة ( $\mu.C$ ) تساوي :  
 (5)       (20)       (10)       صفراً
٢. عند وضع مادة عازلة بين لوحيمكثف كهربائي هو انيمستوي متصلا بمصدر تيار كهربائي، فإن الطاقة المخترنة بين لوحيه :  
 تقل.       تزداد       تبقى ثابتة.       تنعدم
٣. المكثف المستوي الذي له أكبر سعة كهربائية من المكثفات التالية هو :



٤. لوحان موصلان مستويان ومتوازيان يبعدان عن بعضهما (0.2) cm ( شحنا بالكهرباء حتى أصبح فرق الجهد بينهما V ( 12 ) , فإن شدة المجال الكهربائي عند نقطة تقع في منتصف المسافة بين اللوحين مقدرة بوحدة (N/C) تساوي :

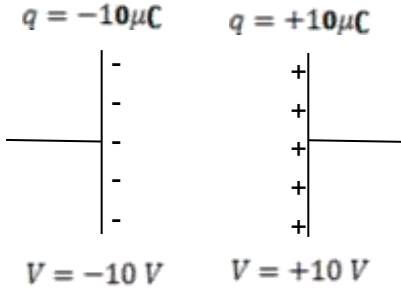
6000

600

240

2.4

٥. اعتماداً على البيانات الموضحة على الشكل فإن:



فرق الجهد بين لوحي المكثف	شحنة المكثف	
20	10	<input type="checkbox"/>
10	0	<input type="checkbox"/>
0	0	<input type="checkbox"/>
10	20	<input type="checkbox"/>

٦. مكثف مستوى مشحون ومعزول و كانت شدة المجال بين لوحيه  $(1800) \text{ N/C}$  إن شدة المجال عند منتصف المسافة بين اللوحين تساوي بوحدة  $(\text{N/C})$ :

- 1800       900       450       125

٧. مكثف هوائي مستوي مساحة كل من لوحيه  $(5) \text{ m}^2$  والبعد بينهما  $(5 \times 10^{-4}) \text{ m}$ , فإذا كان فرق الجهد بين لوحيه  $V (10)$  فإن شحنة المكثف بوحدة الكولوم تساوي: ( مع العلم ان  $\epsilon_0 = 8.85 \times 10^{-12} \text{ F/m}$  )

- $8.85 \times 10^{-6}$         $8.85 \times 10^{-7}$         $8.85 \times 10^{-8}$         $8.85 \times 10^{-18}$

٨. عند وضع مادة عازلة بين لوحي مكثف كهربائي هوائي مستوي متصل بمصدر تيار كهربائي، فإن الطاقة المختزنة بين لوحيه:

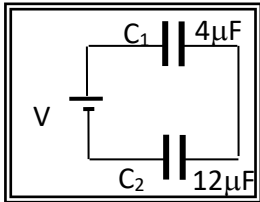
- تنقل.       تزداد.       تبقى ثابتة.       تتعدم

٩. مكثف كهربائي مستوي , وصل لوحاه إلى بطارية , فإذا أبعد اللوحان عن بعضهما البعض , فإن:

شحنة المكثف	جهد المكثف	سعة المكثف	
تقل	يزداد	تقل	<input type="checkbox"/>
لا تتغير	يزداد	تقل	<input type="checkbox"/>
تقل	لا تتغير	تقل	<input type="checkbox"/>
تزداد	لا تتغير	تزداد	<input type="checkbox"/>

١٠. مكثفان مستويان متماثلان سعة كل منهما  $(3) \mu\text{F}$  ، وُصلا معاً على التوازي مع بطارية فاكتسب المكثف الأول شحنة كهربائية مقدارها  $(4) \mu\text{C}$  ، و بالتالي فإن فرق الجهد بين طرفي البطارية بوحدة ( الفولت) يساوي:

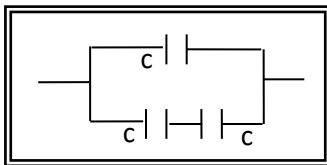
- 12        $\frac{8}{3}$         $\frac{4}{3}$         $\frac{3}{4}$



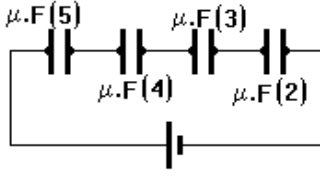
١١. اعتماداً على البيانات الموضحة في الشكل المجاور فإن العلاقة الصحيحة من العلاقات التالية هي:

- $q_1 = q_2 , V_1 = 3V_2$         $q_1 = 3q_2 , V_1 = V_2$   
  $q_1 = q_2 , 3V_1 = V_2$         $3q_1 = q_2 , V_1 = V_2$

١٢. إذا كانت السعة الكهربائية المكافئة الكهربائية لمجموعة المكثفات المتساوية الموضحة بالشكل تساوي  $\mu (3) \text{ F}$  فإن سعة كل منها بوحدة  $(\mu\text{F})$  تساوي:



- 2       1  
 6       3



١٣. بالاعتماد على الشكل الموضح بالرسم فإن المكثف الذي يخزن أكبر قدر من الطاقة

الكهربائية هو المكثف الذي تكون سعته ( بوحدة الفاراد) تساوي :

- 4                       2  
 8                       6

١٤. مكثفان هوائيان مستويان وألواحهما متساوية المساحة فإذا كانت النسبة بين السعة الكهربائية للأول إلى السعة

الكهربائية للثاني هي ( 3 : 2 ) وكانت المسافة بين لوحَي المكثف الثاني تساوي ( 4 ) mm فإن المسافة بين

لوحَي المكثف الأول بوحدة (mm) تساوي:

- 24                       12                       6                       1/6

١٥. وصل فني إلكترونيات ثلاثة مكثفات كهربائية سعاتها  $\mu F$  ( 1/6 , 1/4 , 1/2 ) على التوالي , فتكون السعة

المكافئة للمجموعة ( بوحدة الميكروفاراد) مساوية :

- 11/12                       1/12                       12/11                       12

١٦. في السؤال السابق إذا وصلت نفس مجموعة المكثفات على التوازي فإن السعة المكافئة

- 11/12                       1/12                       12/11                       12

### السؤال الخامس :

أ- إذا كان لديك مكثف مشحون و معزول وضح ماذا يحدث حسب وجه المقارنة .

وجه المقارنة	جهد المكثف	شدة المجال الكهربائي بين لوحيه
إدخال مسطرة عازلة بين لوحَي المكثف.		
تقريب اللوحين من بعضهما		

ب- عند إدخال مادة عازلة بين لوحَي مكثف هوائي مستوى- قارن ، إذا كان هذا المكثف :

وجه المقارنة	متصل ببطارية (منبع تيار مستمر)	مشحون ومعزول (عن البطارية)
شدة المجال الكهربائي		
الطاقة الكهربائية		

ت- طريقتي توصيل المكثفات المستوية معا :

وجه المقارنة	على التوالي	على التوازي
(رسم توضيحي)		
كمية الشحنة الكهربائية		
الجهد الكهربائي		
القانون المستخدم لحساب السعة المكافئة		

السؤال السادس :

( أ ) - علل كلا مما يلي تعليلاً علمياً دقيقاً .

١. لا تتغير سعة المكثف عند زيادة شحنته .

.....  
.....

٢. تزداد سعة مكثف هوائي عند وضع شريحة زجاجية بين لوحيه.

.....  
.....

٣. الطاقة الكهربائية المخزنة في عدة مكثفات تتصل على التوازي أكبر منها عند توصيلها على التوالي مع نفس المنبع.

.....  
.....

السؤال السابع :

وضح مع التفسير ماذا يحدث في الحالات التالية :

١. للطاقة الكهربائية المخزنة في مكثف هوائي مستوٍ يتصل ببطارية عند زيادة البعد بين لوحيه ؟

.....  
.....

٢. عند توصيل طرفي مكثف كهربائي مشحون بمقاومة ؟

.....  
.....

٣. عند زيادة فرق الجهد المطبق بين لوحي مكثف هوائي مستوٍ إلى حد معين ؟

.....  
.....



السؤال الثامن:

اذكر العوامل التي تتوقف عليها السعة الكهربائية لمكثف مستوي .

١ - .....

٢ - .....

٣ - .....

السؤال التاسع :

حل المسائل التالية .

١. مكثف هوائي مستوي المسافة بين لوحيه  $m.m ( 1 )$  ، كم يجب أن تكون مساحة كل من لوحيه لكي

تصبح سعته  $F . \mu ( 0.01 )$  ؟

٢. مكثف كهربائي مستوي هوائي مشحون، المساحة المشتركة لكل من لوحيه  $cm^2 (100)$  والمسافة بينهما

$mm (1)$ ، اكتسب جهداً مقداره  $(200)$  فولت، احسب ما يلي :

أ- السعة الكهربائية للمكثف. ب- كمية الشحنة الكهربائية للمكثف.

٣. مكثف هوائي مساحة كل من لوحيه  $cm^2 ( 100 )$  والبعد بينهما  $cm ( 2 )$  فإذا شحنت حتى أصبح

جهد  $v ( 12 )$  ، ثم فصل عن منبع الشحن ملئ الحيز بين لوحيه بمادة عازلة ثابت عزلتها  $( 3 )$

احسب :

أ- سعة المكثف الهوائي وشحنته .

ب- سعة المكثف بعد إدخال المادة العازلة بين لوحيه وجهد .

قارن بين كل من سعة وجهد وشحنة المكثف قبل وبعد إدخال المادة العازلة بين لوحيه- ماذا تستنتج ؟

٤. مكثفان هوائيان متماثلان ومشحونان، سعة كل منهما  $F(4 \times 10^{-12})$  متصلان على التوازي، فإذا علمت أن قراءة الفولتميتر المتصل بهما (1000) فولت، فكم تكون كمية الشحنة الكهربائية على كلٍ منهما؟ وكم تصبح قراءة الفولتميتر إذا ملأنا الحيز بين لوحَي أحد المكثفين بمادة ثابت العازلية الكهربائية لها يساوي (9).

.....

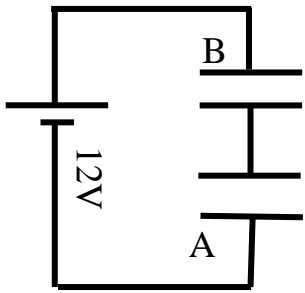
.....

.....

.....

.....

٥. المكثفان (A) ، (B) الموصلان بالدائرة الموضحة بالشكل سعتهما المكافئة  $\mu F(8)$  فإذا علمت أن سعة



المكثف (A) تساوي  $\mu F(12)$  وفرق الجهد بين طرفي المصدر  $V(12)$ ، احسب:

- ٦. أ- سعة المكثف (B)
- ب - شحنة المكثف (A)
- ج- الطاقة المخزنة في المكثفين معا .

.....

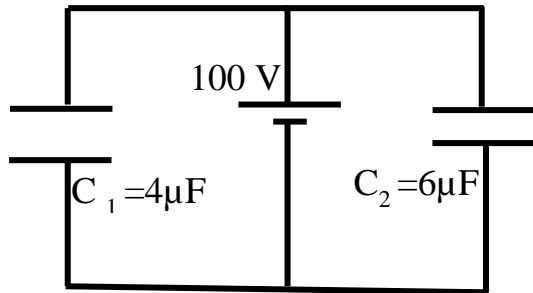
.....

.....

.....

.....

٧. في الدائرة الموضحة بالشكل مكثفان سعة كلٍ منهما  $(12)$  ميكرو فاراد. يتصلان ببطارية فرق الجهد بين



طرفيها  $v(9)$  . احسب:

- أ- مقدار شحنة كل من المكثفين.
- ب- مقدار الطاقة المخزنة في المكثفين معاً نتيجة شحنهما .
- ج- إذا وضعت مادة ثابت عازليتها  $(\delta = 5)$  بين لوحَي أحداً لمكثفين بحيث شغلت تماماً الحيز بين لوحيه . احسب مقدار الزيادة التي تطرأ على الطاقة المخزنة .

.....

.....

.....

الفصل الثاني ( المغناطيسية )

أسئلة الدرس ( ٢ - ٢ )

التيارات الكهربائية و المجالات المغناطيسية

السؤال الأول: أكمل العبارات العلمية التالية بما يناسبها

١. يعتمد اتجاه المجال المغناطيس على اتجاه التيار المار و يتحدد اتجاهه بقاعدة .....
٢. تتناسب كثافة التدفق المغناطيسي عند مركز ملف دائري و الناتجة عن مرور تيار مستمر به تناسباً عكسياً مع ..... عند ثبات كل من شدة التيار المار وطول السلك المصنوع منه الملف ونوع الوسط.
٣. يعتبر الملف الحلزوني عند مرور التيار فيه ..... له قطبان يحددهما .....
٤. شدة المجال المغناطيسي عند نقطة تبعد مسافة 20 cm (20) عن موصل مستقيم وطويل يمر به تيار كهربائي مستمر شدته A (10) تساوي.....تسلا.
٥. ملف لولبي مره تيار مستمر ثابت الشدة و شدة المجال بداخله (B) وعند شد الملف اللولبي ليصبح طوله مثلي طوله الأصلي فإن شدة المجال المغناطيسي تصبح ..... ما كانت عليه.
- ٦-ملف دائري يمر به تيار كهربائي شدته ( I ) فكانت شدة المجال المتولدة عند مركزه (B) فإذا زاد عدد لفاته إلى المثلين ومره نفس التيار المستمر فإن شدة المجال المغناطيسي المتولد عند مركزه تصبح .....

السؤال الثاني:

- ضع بين القوسين علامة (✓) أمام العبارة الصحيحة و علامة (×) أمام العبارة غيرا لصحيحة لكل مما يلي
١. ( ) عند مرور تيار كهربائي في سلك مستقيم وطويل فإنه يتولد مجال مغناطيسي على هيئة دوائر متحدة المركز مركزها السلك نفسه .
  ٢. ( ) المجال المغناطيسي مجال منتظم داخل الملف الدائري .
  ٣. ( ) يتوقف اتجاه المجال المغناطيسي لتيار مستقيم على اتجاه التيار المار فيه.
  ٤. ( ) المجال المغناطيسي عند مركز الملف الدائري يظهر على هيئة خطوط مستقيمة متوازية .

السؤال الثالث:

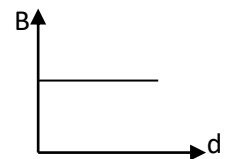
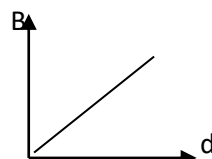
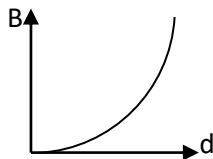
ضع علامة ( ✓ ) في المربع المقابل لأنسب إجابة أو تكمله صحيحة لكل من العبارات التالية :

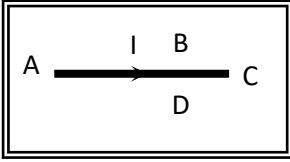
١-خطوط المجال المغناطيسي الذي يولد هتيار كهربائي يمر في سلك مستقيم وطويل تكون على شكل

خطوط مستقيمة موازية للسلك  دوائر في مستوى عمودي على السلك

خطوط مستقيمة عمودية على السلك  دوائر في مستوى مواز للسلك

٢-أفضل علاقة بيانية تمثل تغير شدة المجال المغناطيسي ( B ) عند نقطة وبعد هذه النقطة عن سلك طويل يمر به تيار كهربائي مستمر هي :

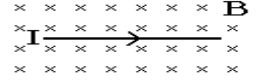
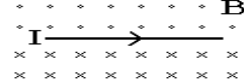
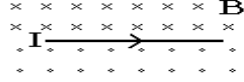
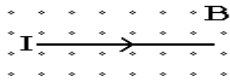




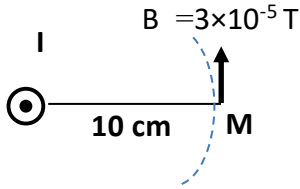
٣- يكون اتجاه المجال المغناطيسي الناشئ عند مرور التيار الكهربائي المستمر ( I ) في السلك المستقيم الموضح بالشكل المقابل عمودي على الورقة نحو الخارج عند النقطة :

- A  B  C  D

٤- إذا مرَّ تيار كهربائي مستمر في سلك موصل مستقيم، فإن أحد الأشكال التالية يمثل الاتجاه الصحيح لشدة المجال المغناطيسي (B) على جانبي السلك ، وهو

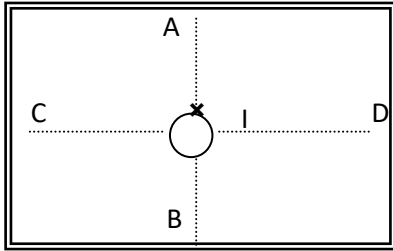


- 



٥- إذا كانت شدة المجال المغناطيسي تساوي  $T (3 \times 10^{-5})$  عند نقطة M تبعد 10 cm عند موصل مستقيم موضوع عمودياً على الورقة يمر به تيار كهربائي مستم رشدته ( I ) كما يوضح الشكل المقابل ، فإن شدة التيار المارة في السلك تساوي :

- A  5) نحو خارج الورقة.  5) نحو داخل الورقة.  
B  15) نحو خارج الورقة.  15) نحو داخل الورقة.



٦- عندما يمر تيار مستمر ( I ) في سلك عمودي على الورقة نحو داخلها كما بالشكل فإن اتجاه المجال المغناطيسي الناشئ يكون جهة الشمال عند النقطة :

- A  B   
C  D

٧- ملف لولبي يمر به تيار كهربائي مستمر شدته ( I ) أمبير فتكون عند مركزه مجال مغناطيسي شدته ( B ) فإذا ضغط الملف حتى أصبح طول محوره نصف ما كان عليه وأنقصت شدة التيار إلى النصف فإن شدة المجال المغناطيسي (B) عند مركزه :

- يزداد لمثلي ما كان عليه ويبقى اتجاهه ثابت.  يبقى مقداره ثابتاً و ينعكس اتجاهه .  
 يقل لنصف ما كان عليه و ينعكس اتجاهه .  يبقى مقدار هو اتجاهه ثابتاً .

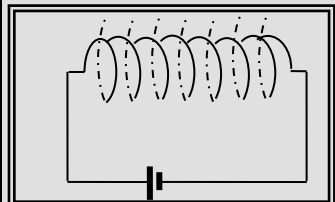
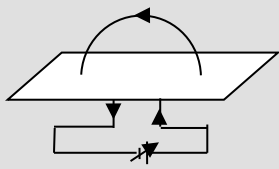
٨- ملف لولبي كل cm (1) من طوله يحتوي (10) لفات يمر به تيار كهربائي مستمر شدته A (25) فإن شدة المجال المغناطيسي (B) المتولدة عند منتصف محوره بوحدة التسلا تساوي:

- $\pi$    $0.1\pi$    $0.01\pi$    $0.001\pi$

**السؤال الرابع:**

١- قارن بين المجال المغناطيسي لتيار مستمر يمر في سلك مستقيم و ملف دائري حسب وجه المقارنة

وجه المقارنة	سلك مستقيم	ملف دائري
شكل المجال		
القانون الرياضي لحساب شدة المجال		

وجه المقارنة		
حدد على الرسم شكل المجال داخل الملف		
القانون الرياضي لحساب شدة المجال		

**علل الكلمة باليتعليل علمياً دقيقاً :**

(أ) تتكاثف خطوط المجال المغناطيسي داخل الملف وتتبعه خارجة .

.....  
 .....

(ب) تنحرف الإبرة المغناطيسية عند مرور تيار كهربائي مستمر في سلك مستقيم بالقرب منها

.....  
 .....

**السؤال الخامس:** اذكر العوامل التي تؤثر فعلياً على شدة المجال المغناطيسي لتيار مستمر يمر في :

١. سلك مستقيم

.....

٢. ملف دائري

.....

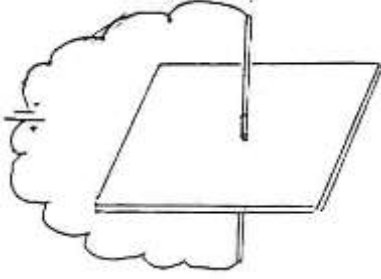
٣. ملف لولبي

.....

السؤال السادس :

(أ) يوضح الشكل المجاور سلك يمر فيه تيار كهربائي والمطلوب :

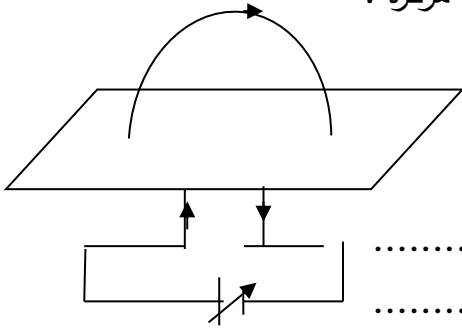
- ارسم شكل المجال المغناطيسي حول السلك الناشئ عن مرور التيار فيه وحدد اتجاهه .
- ماذا يحدث إذا عكس اتجاه التيار في السلك.



- اذكر عناصر متجه المجال عند نقطه حول السلك .

(ب) - ارسم شكل المجال المغناطيسي الناشئ عن مرور تيار كهربائي مستمر في الملف الدائري:

- حدد على الرسم اتجاه لمجال المغناطيسي عند كل من طرفي الملف وعند مركزه .
- ❖ ماذا يحدث لشدة المجال المغناطيسي الناتجة عند المركز في كل من الحالتين التاليتين :



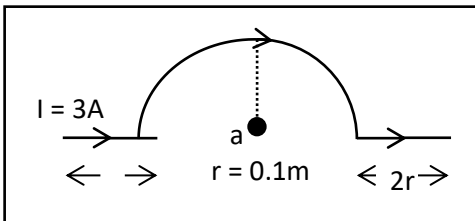
- عند زيادة شدة التيار المار في الملف إلى مثلي ما كانت عليه .

- عند إنقاص عدد لفات الملف إلى نصف ما كانت عليه ( عند ثبات نصف القطر )

السؤال السابع :

حل المسائل التالية :

1- في الشكل المقابل يوضح سلكاً يمر به تيار كهربائي شدته  $3A$ ،



أوجد شدة المجال المغناطيسي عند نقطة  $a$  والناتج عن :

أ- تيار السلك المستقيم.

ب- تيار السلك النصف دائري .

- ٢- حلقة معدنية يمر بها تيار مستمر شدته  $A$  (20) فيولد مجالاً مغناطيسياً شدته  $T$  ( $5-10 \times 2\pi$ ) عند مركز الحلقة. أحسب ما يلي :
- أ- نصف قطر الحلقة المعدنية.

.....

.....

بشدة التيار الكهربائي المستمر المار في السلك المستقيم بحيث ينشأ عنه نفس شدة المجال المغناطيسي عند نقطة بعدها العمودي عن السلك يساوي نصف قطر الحلقة المعدنية.

.....

- ٣- ملف حلزوني مكون من لفات متراصة عددها (400) لفة فإذا علمت أن طول الملف (40cm) وشدة التيار المار به  $A$  (0.5) فأحسب :
- أ- شدة المجال المغناطيسي عند منتصف الملف اللولبي.

.....

.....

ب- حدد عناصر متجه المجال المغناطيسي.

.....

.....

الضوء

الدرس ١-١ خواص الضوء

السؤال الأول : اكتب بين القوسين الاسم أو المصطلح العلمي الذي تدل عليه كل من العبارات التالية:-

١. موجات الطاقة المنتشرة بجزء كهربائي وجزء مغناطيسي . ( )
٢. التغير المفاجئ في اتجاه شعاع الضوء على سطح عاكس . ( )
٣. الشعاع الضوئي الساقط والشعاع الضوئي المنعكس والعمود المقام عند نقطة السقوط على السطح العاكس تقع جميعها في مستوى واحد عمودي على السطح العاكس. ( )
٤. زاوية السقوط تساوي زاوية الانعكاس. ( )
٥. التغير المفاجئ في اتجاه شعاع الضوء عند مروره بشكل مائل على السطح الفاصل بين وسطين شفافين مختلفين بالكثافة الضوئية بسبب تغير سرعته. ( )
٦. الشعاع الضوئي الساقط والشعاع الضوئي المنكسر والعمود المقام عند نقطة السقوط على السطح الفاصل تقع جميعها في مستوى واحد عمودي على السطح الفاصل. ( )
٧. النسبة بين جيب زاوية السقوط للشعاع الساقط في الوسط الأول إلى جيب زاوية الانكسار في الوسط الثاني تساوي نسبة ثابتة تسمى معامل الانكسار من الوسط الأول إلى الوسط الثاني . ( )
٨. المسافة بين هذين متتاليين من النوع نفسه. ( )
٩. ظاهرة انحراف الموجة الضوئية عن مسارها الأصلي عندما تمر من خلال ثقب ضيق أو تمر على حافة حادة أثناء انتشارها. ( )
١٠. تكوين حزمة من الموجات الكهرومغناطيسية التي تكون اهتزازاتها جميعا في مستوى واحد ولا يحدث إلا للموجات المستعرضة. ( )

السؤال الثاني : ضع علامة (√) أمام العبارة الصحيحة وعلامة (x) أمام العبارة غير الصحيحة في ما يلي .

١. ( ) اعتقد بعض قدماء الفلاسفة اليونان أن الضوء يتألف من جزيئات صغيرة جدا تستطيع أن تدخل العين لتخلق حاسة النظر.
٢. ( ) تزداد سرعة الضوء المنتقل في الوسط مع زيادة الكثافة الضوئية للأوساط الشفافة.
٣. ( ) الموجات الضوئية هي موجات مستعرضة.
٤. ( ) تختلف سرعة الضوء المنتقل في الوسط باختلاف الكثافة الضوئية للوسط.
٥. ( ) تصبح سرعة الضوء المنتقل في الأوساط غير الشفافة صفرا .
٦. ( ) إذا كان السطح العاكس مصقولا فإن الأشعة المتوازية الساقطة عليه ترتد بشكل متواز ويسمى انعكاسا غير منتظم .
٧. ( ) عندما ينتقل الشعاع الضوئي من وسط أقل كثافة ضوئية إلى وسط أكبر كثافة ضوئية فإنه ينكسر مقتربا من العمود.
٨. ( ) إذا كانت زاوية السقوط ( $30^\circ$ ) وزاوية الانكسار ( $60^\circ$ ) ، فإن معامل انكسار من الوسط الأول إلى الوسط الثاني يساوي ( $\sqrt{3}$ ) .



**السؤال الثالث: أكمل العبارات العلمية التالية بما يناسبها :-**

١. قدم اسحاق نيوتن تفسيراً للضوء بأنه يتخذ شكل .....دقيق من .....لذلك ينتشر في خطوط مستقيمة كما قدم العالم هينجز النظرية ..... التي تعتبر الضوء .....
٢. حسب فرضيات بلانك الضوء يتألف من جسيمات (( فوتونات )) حزم ..... من طاقة الموجات الكهرومغناطيسية المركزة
٣. حسب فرضية ماكس بلانك المتعلقة بتبادل الطاقة بين ..... و .....
٤. فرضية لودي برولي حول الصفة ..... للجسيمات .....علي أن للضوء طبيعة .....
٥. تختلف سرعة الضوء المنتقل في الوسط باختلاف .....
٦. تقل سرعة الضوء المنتقل في الوسط مع ..... الكثافة الضوئية للأوساط الشفافة .
٧. في الأوساط غير الشفافة تصبح سرعة الضوء مساوية .....
٨. الموجات الضوئية هي موجات .....
٩. عند سقوط موجة ضوئية على سطح شفاف يفصل بين وسطين مختلفين يرتد بعض من طاقة الضوء أو كلها في الوسط ويسمى هذا ..... وقد ينفذ بعض من الطاقة إلى الوسط الثاني ويسمى هذا .....
١٠. التغيير المفاجئ في اتجاه شعاع الضوء على سطح عاكس يسمى .....
١١. إذا كان السطح العاكس مصقولاً فإن الأشعة المتوازية الساقطة عليه ترتد بشكل ..... ويسمى .....
١٢. إذا كان السطح العاكس غير مصقول فإن الأشعة المتوازية الساقطة عليه ..... ويسمى .....
١٣. إذا سقط الشعاع الضوئي عمودياً على السطح العاكس فإنه .....
١٤. إذا كانت زاوية السقوط ( $30^\circ$ ) فإن زاوية الانعكاس تساوي بوحدة الدرجات .....
١٥. عندما ينتقل الشعاع الضوئي من وسط أقل كثافة ضوئية إلى وسط أكبر كثافة ضوئية فإنه ينكسر ..... من العمود
١٦. عندما ينتقل الشعاع الضوئي من وسط أكبر كثافة ضوئية إلى وسط كثافة ضوئية أقل فإنه ينكسر ..... من العمود
١٧. معامل الانكسار المطلق للماس  $\frac{5}{2}$  ومعامل الانكسار النسبي من الماس إلى الأنيلين هو ( 0.64 ) فإن معامل الانكسار المطلق للأنيلين .....
١٨. إذا كان معامل الانكسار المطلق للبنزين (1.5) فإن سرعة الضوء في البنزين تساوي بوحدة m/s .....
- باعتبار أن سرعة الضوء  $3 \times 10^8 m/s$
١٩. جبهة الموجه هي السطح الذي يمر بكل النقاط التي يصلها ..... في لحظة واحدة .
٢٠. تتداخل الموجات الصادرة من مصدرين مترابطين وينشأ عن ذلك وجود مناطق .....و مناطق .....
٢١. ظاهرة موجية تنشأ عن تغير مسار موجات الضوء نتيجة مرورها خلال فتحة مناسبة أو ملامستها لحافة صلبة تسمى .....
٢٢. يكون الحيود أفضل ما يمكن إذا كان اتساع الفتحة..... لطول الموجه.

٢٣. يمكن استقطاب موجات الضوء والموجات الكهرومغناطيسية لأنها موجات .....
٢٤. تستخدم بلورة التورمالين لبيان ظاهرة ..... الموجات الضوئية.
٢٥. العلاقة المستخدمة في تحديد موقع الهدب المضيء هي .....

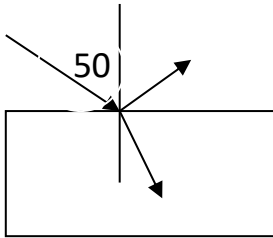
**السؤال الرابع : ضع علامة ( √ ) في المربع المقابل لأنسب إجابة صحيحة تكمل العبارات التالية:**

١. تتكون الموجات الكهرومغناطيسية من :
- مجال كهربائي فقط .  اهتزاز مجالين كهربائي و مغناطيسي بمستويين متعامدين .
- مجال مغناطيسي فقط .  اهتزاز مجالين كهربائي ومغناطيسي بمستوى واحد .
٢. وفقاً لنظرية هيجنز فإن الضوء يملك خواص موجية لأنه:
- ينحني حول الأجسام.  يحدد و يتداخل .  يستقطب .  جميع ماسبق صحيح .
٣. اعتماداً على نظرية نيوتن فإن الإجابات التالية صحيحة عدا واحدة وهي :
- الضوء جسيمات دقيقة تنتشر في خطوط مستقيمة.  يمثل بشعاع.
- يحدد و يتداخل .  ينكسر و ينعكس .
٤. عندما ينتقل شعاع ضوئي من وسط أقل كثافة ضوئية إلى وسط أكبر كثافة ضوئية فإن الشعاع الساقط :
- لا يعاني أي انكسار .  ينكسر مبتعداً عن العمود .
- ينكسر مقترباً مع العمود المقام .  ينكسر ويخرج منطبقاً على السطح الفاصل .
٥. إذا كانت سرعة أمواج الضوء في الهواء ( $3 \times 10^8$ ) m/s و الكثافة الضوئية للزجاج تساوي ( $\frac{3}{2}$ ) فإن سرعة الضوء في مادة الزجاج بوحدة (m/s) تساوي :

- $0.5 \times 10^8$    $1.6 \times 10^8$    $2 \times 10^8$    $4.5 \times 10^8$

٦. إذا كان معامل الانكسار المطلق للماء هو (1.33) فإن الزاوية الحرجة للماء بالنسبة للهواء

- $15^\circ$    $45^\circ$    $36^\circ$    $61^\circ$    $48^\circ$



٧. شعاع ضوئي ساقط على أحد أوجه متوازي مستطيلات زجاجي معامل انكسار مادته (1.5) بزاوية سقوط (50) فانعكس جزء وانكسر الجزء الآخر فان الزاوية المحصورة بين الشعاعين المنكسر والمنعكس بالدرجة

- $69^\circ$    $79^\circ$    $89^\circ$    $99.3^\circ$

٨. التغير المفاجئ في اتجاه شعاع الضوء على سطح عاكس يسمى :

- الانعكاس  الانكسار  التداخل  الحيود

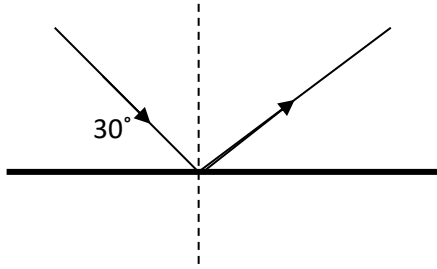
٩. التغير المفاجئ في اتجاه شعاع الضوء عند مروره بشكل مائل على السطح الفاصل بين وسطين شفافين مختلفين بالكثافة الضوئية بسبب تغير سرعته.

- الانعكاس  الانكسار  التداخل  الحيود

١٠. ظاهرة انحراف الموجة الضوئية عن مسارها الأصلي عندما تمر من خلال ثقب ضيق أو تمر على حافة حادة أثناء انتشارها.

الانعكاس  الانكسار  التداخل  الحيود

١١. من الشكل المقابل تكون زاوية السقوط وزاوية الانعكاس مساوية بوحدة الدرجات :



زاوية الانعكاس	زاوية السقوط	
30°	30°	<input type="checkbox"/>
60°	30°	<input type="checkbox"/>
30°	60°	<input type="checkbox"/>
60°	60°	<input type="checkbox"/>

١٢. إذا كان معامل الانكسار النسبي من الزجاج للماس ( $\frac{5}{3}$ ) ومعامل الانكسار للزجاج ( $\frac{3}{2}$ ) فإن معامل الانكسار

للماس:

1   $\frac{3}{2}$    $\frac{3}{5}$    $\frac{5}{2}$

١٣. سقط شعاع ضوئي مائلاً على سطح من الزجاج مستوي بزاوية ( $35.26^\circ$ ) وكان معامل انكسار مادته

يساوي ( $\sqrt{2}$ ) فتكون زاوية انكسار الشعاع في مادة الزجاج مساوية :

45.2°  45.73°  35.27°  55.6°

١٤. إذا كانت سرعة الضوء في الهواء ( $3 \times 10^8$ ) m/s وانتقل إلى وسط شفاف آخر متجانس فأصبحت سرعة

الضوء فيه ( $1.5 \times 10^8$ ) m/s فإن معامل انكسار الضوء من الهواء إلى الوسط يساوي :

1  2  3  4

١٥. إذا كانت سرعة أمواج الضوء في الهواء ( $3 \times 10^8$ ) m/s ومعامل انكسار الزجاج يساوي ( 1.5 ) فإن سرعة

الموجات في الزجاج بوحدة m/s تساوي :

$2 \times 10^8$    $1.6 \times 10^8$    $4.5 \times 10^8$    $0.5 \times 10^8$

١٦. إذا كان معامل الانكسار النسبي بين الماء والزجاج = 1.2 ومعامل الانكسار المطلق للماء = 1.33 فإن

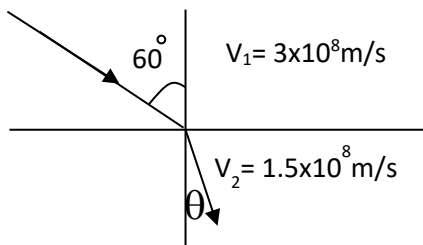
معامل الانكسار المطلق للزجاج يساوي :

1.4  1.5  1.6  1.8

١٧. سقط شعاع ضوئي بزاوية ( $60^\circ$ ) على سطح فاصل بين وسطين فإذا انكسر هذا الشعاع بزاوية ( $45^\circ$ ) يكون

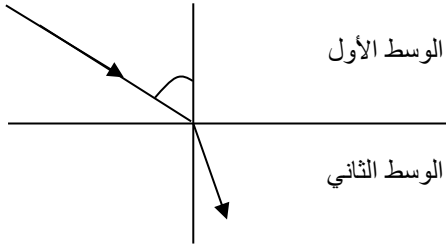
معامل الانكسار النسبي من الوسط الأول إلى الثاني يساوي

1.5  1.22  1.44  2.44



١٨. في الشكل المقابل تكون زاوية الانكسار مساوية بالدرجات :

30°  40.5°  
 50°  25.6°



١٩. في الشكل المقابل يكون :

كثافة الوسط الأول أعلى من كثافة الوسط الثاني

كثافة الوسط الأول أقل من كثافة الوسط الثاني

كثافة الوسط الأول تساوي كثافة الوسط الثاني

جميع ما سبق

٢٠. سقط ضوء أحادي اللون طول موجته  $A^\circ (6000)$  على شق مزدوج وكانت المسافة بين منتصف الشقين

$m (0.001)$  المسافة بين حاجز الشقين والشاشة  $cm (500)$  فإن المسافة بين الهدف المضيء الرابع

والمضيء الخامس يساوي بوحدة المتر :

0.003

0.3

$3 \times 10^4$

0.012

٢١. تتوقف المسافة بين هديين متتالين مضيئين ( أو معتمين ) في تجربة الشق المزدوج على :

المسافة بين الشق والحائل

الطول الموجي للضوء المستخدم .

جميع ما سبق

المسافة بين الشقين .

٢٢. ظاهرة موجية تنشأ عن تغير مسار موجات الضوء نتيجة مرورها خلال فتحة مناسبة أو ملامستها لحافة عائق

صلب :

الانعكاس

الاستقطاب

الحيود

التداخل

السؤال الخامس :

( أ ) : قارن بين كل مما يلي حسب وجه المقارن المطلوب في الجدول التالي:

وجه المقارنة	نظرية نيوتن	النظرية الموجية لهويجنز
وصف الضوء		
وجه المقارنة	السطح مصقول	السطح غير مصقول
الأشعة المنعكسة منها		
نوع الانعكاس		
وجه المقارنة	عندما ينتقل الشعاع الضوئي من وسط أقل كثافة ضوئية إلى وسط أكبر كثافة ضوئية	عندما ينتقل الشعاع الضوئي من وسط أكبر كثافة ضوئية إلى وسط أقل كثافة ضوئية
ماذا يحدث للشعاع الساقط		
زاوية السقوط بالنسبة لزاوية الانكسار		
وجه المقارنة	الهدب المضيء	الهدب المظلم
نوع التداخل		
معادلة فرق المسير		

( ب ) : علل لما يأتي تعليلا علميا صحيحا

١. أكد هويجنز بالتجربة أن الضوء ينتشر بشكل موجات .
٢. معامل الانكسار النسبي بين وسطين مقدار ليس له وحدة قياس.
٣. معامل الانكسار المطلق أكبر من الواحد.
٤. ينكسر الضوء عند انتقاله من وسط شفاف متجانس إلى وسط آخر شفاف ومتجانس .
٥. في تجربة الشق المزدوج ليونج يزداد وضوح التداخل كلما قلت المسافة بين الشقين.
٦. الهدب المركزي هذب مضيء دوما .
٧. يكون للهدب المركزي أكبر شدة .
٨. يمكن ملاحظة حيود الصوت أثناء حياتنا العادية و لا يمكن ملاحظة حيود الضوء.

( ج ) : ماذا يحدث:

١. عندما ينتقل الشعاع الضوئي من وسط أقل كثافة ضوئية إلى وسط أكبر كثافة ضوئية .
٢. عندما ينتقل الشعاع الضوئي من وسط أكبر كثافة ضوئية إلى وسط أقل كثافة ضوئية.
٣. للأشعة الضوئية المتوازية الساقطة على سطح عاكس مصقول بشكل متواز .
٤. للأشعة الضوئية المتوازية الساقطة على سطح غير مصقول خشن بشكل متواز .

( د ) : أجب عن ما يلي :

- ١-اذكر الخواص العامة للموجات الكهرومغناطيسية.
- ٢-اذكر قانون الانعكاس.
- ٣- اذكر قانون الانكسار.

( هـ ) : نشاط عملي :

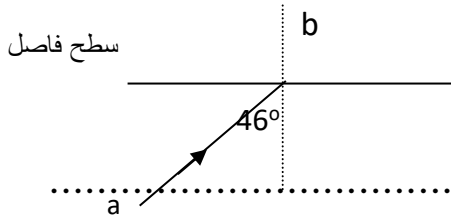
١. هل تستقطب موجات الضوء ! أشرح مستعيناً بالرسم تجربة عملية تثبت صحة رأيك

( و ) : استنتج ما يلي :

١. استنتج العلاقة التي تعطي البعد الهدي من تجربة الشق المزدوج ليونج

السؤال السادس : حل المسائل التالية :

١-في الرسم المقابل إذا كان معامل الانكسار المطلق للزجاج الماء يساوي (1.5) ومعامل الانكسار المطلق للماء يساوي (1.33).



احسب ما يلي :

أ- معامل الانكسار النسبي بين الزجاج والماء . الزجاج

ب-معامل الانكسار النسبي بين الماء و الزجاج .

ج-زاوية انكسار الشعاع (a b) في الماء .

د-سرعة الضوء في الماء .

هـ-سرعة الضوء في الزجاج .

الدرس ١ - ٢

الانعكاس والانكسار عند السطوح المستوية

السؤال الأول: أكتب بين القوسين الاسم أو المصطلح العلمي الذي تدل عليه كل عبارة من العبارات التالية :

١. سطوح ناعمة عاكسة مصنوعة من معدن لامع أو من زجاج طلي أحد سطوحه بمادة مثل التين أو الزئبق أو الفضة . ( )
٢. ألياف زجاجية دقيقة لا يفقد الضوء خلالها الطاقة . ( )
٣. زاوية السقوط في الوسط الأكبر كثافة ضوئية والتي تقابلها زاوية انكسار في الوسط الأقل كثافة ضوئية تساوي ( $90^\circ$ ). ( )

السؤال الثاني :

ضع بين القوسين علامة ( ✓ ) أمام العبارة الصحيحة ، وعلامة ( × ) أمام العبارة غير الصحيحة في كل مما يلي :

١. ( ) الصورة المتكونة في المرايا المستوية هي صورة تقديرية معتدلة ومساوية لطول الجسم.
٢. ( ) عند رفع يدك اليمنى فإنك ستشاهد يدك اليسرى هي التي تتحرك في المرآة المستوية.
٣. ( ) من خواص المرايا المستوية أن الصورة تنقلب من اليمين إلى اليسار.
٤. ( ) البعد البؤري في المرايا الكروية يساوي نصف قطر الكرة التي اقتطعت منها المرآة.
٥. ( ) تتكون الصورة التقديرية من تلاقي الأشعة المنعكسة على المرايا.
٦. ( ) إذا كان البعد البؤري للمرآة المقعرة  $30\text{ cm}$  وبعد الجسم  $60\text{ cm}$  فإن بعد الصورة  $30\text{ cm}$  .
٧. ( ) إذا كان بعد الصورة موجبا فإن الصورة تقديرية.
٨. ( ) البعد البؤري للمرآة المقعرة يكون موجبا.

السؤال الثالث : أكمل العبارات العلمية التالية بما يناسبها .

١. عندما يكون السطح العاكس مستويا فإن المرايا تسمى .....
٢. الصور المتكونة في المرايا المستوية هي .....
٣. التكبير في المرايا المستوية يساوي .....
٤. إذا كان نصف قطر المرآة  $10\text{ cm}$  فإن بعدها البؤري بوحدة المتر يساوي .....
٥. الشعاع المواز للمحور ينعكس .....
٦. الشعاع المار بالبؤرة ينعكس .....
٧. الشعاع المار بالمركز ينعكس .....
٨. الصورة التي تتكون من تلاقي الأشعة المنعكسة على المرايا هي صورة .....
٩. الصورة التي تتكون من تلاقي امتدادات الأشعة المنعكسة على المرايا هي صورة .....
١٠. إذا كان بعد الصورة موجبا فإن الصورة .....
١١. البعد البؤري للمرآة المحدبة يكون .....

١٢. الصورة المتكونة في المرآة المحدبة هي .....
١٣. إذا كانت الزاوية الحرجة لوسط يساوي (  $45^\circ$  ) فإن معامل الانكسار لهذا الوسط يساوي .....
١٤. عند انتقال الضوء من وسط أقل كثافة ضوئية إلى وسط أكبر كثافة ضوئية ينحرف الشعاع الضوئي ..... من العمود

السؤال الرابع : ضع علامة ( ✓ ) في المربع الواقع أمام أنسب إجابة لكل من العبارات التالية :

١- المرآة المستوية تكافي مرآة مقعرة نصف قطر تكورها كبير جدا علي ذلك يكون أقل بعد للصورة المتكونة هو

- ٧  -٧  u  -u

٢- تكون الصورة المتكونة لجسم في مرآة مستوية:

- مساوية لطول الجسم ومعتدلة وحقيقية  مساوية لطول الجسم ومقلوبة وحقيقية
- مساوية لطول الجسم ومقلوبة وتقديرية  مساوية لطول الجسم ومعتدلة وتقديرية

٣ - التكبير في المرايا المستوية :

- أكبر من الواحد  أصغر من الواحد  يساوي الواحد  يساوي الصفر

٤ - البعد البؤري في المرايا الكروية يساوي.

- 2r  r   $\frac{r}{2}$    $\frac{r}{4}$

٥ - إذا كان بعد الجسم cm (20) وتكونت للجسم صورة تقديرية معتدلة ومصغرة إلى النصف فتكون المرآة.

- مقعرة وبعدها البؤري cm 6.67  مقعرة وبعدها البؤري cm 10

- محدبة وبعدها البؤري cm 6.67  محدبة وبعدها البؤري cm 10

٦ - إذا كان طول الصورة cm (15) وطول الجسم cm (5) فإن التكبير يساوي :

- 20  10  3  0.33

٧ - إذا كان التكبير لمرآة يساوي ( 0.5 -) فإن المرآة :

مقعرة والصورة تقديرية معتدلة مصغرة

مقعرة والصورة حقيقية مقلوبة مكبرة

محدبة والصورة تقديرية معتدلة مصغرة

محدبة والصورة حقيقية مقلوبة مكبرة

٨ - إذا سقط شعاع مواز لمحور مرآة مقعرة فإنه :

ينعكس على نفسه  ينعكس مارا المركز البصري

ينعكس مارا بالبؤرة  ينعكس موازيا للمحور

٩ - إذا سقط شعاع مارا بالبؤرة لمرآة مقعرة فإنه :

ينعكس على نفسه  ينعكس مارا المركز البصري

ينعكس مارا بالبؤرة  ينعكس موازيا للمحور



١٠ - إذا سقط شعاع مارا بمركز المرآة المقعرة فإنه :

- ينعكس على نفسه  
 ينعكس مارا بالمركز البصري  
 ينعكس مارا بالبؤرة  
 ينعكس موازيا للمحور

١١ - الأشعة الضوئية المتوازية والساقطة على مرآة مقعرة والموازية لمحورها الأصلي تتجمع عند :

- البؤرة  قطب المرآة  مركز التكور  المركز البصري

١٢- إذا انتقلت موجات بين وسطين مختلفين وكان انتشارها عمودياً على السطح الفاصل بين الوسطين فإنالموجات

- تنكسر وتتحرف عن مسارها  
 لا تنكسر وتتحرف عن مسارها

- تنكسر ولا تتحرف عن مسارها  
 لا تنكسر ولا تتحرف عن مسارها

١٣ - إذا سقط شعاع في وسط أكبر كثافة ضوئية وبزاوية أكبر من الزاوية الحرجة فإن الشعاع

- ينكسر مبتعداً عن العمود المقام  
 ينكسر مقترباً من العمود المقام  
 ينكسر منطبقاً على السطح  
 ينكسر في الوسط نفسه

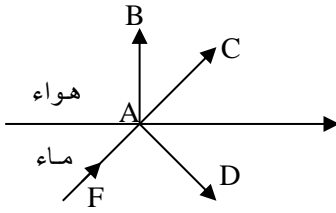
١٤ - يحدث الانعكاس الكلي للضوء عندما تنتقل الأشعة من الوسط :

- الأكبر كثافة وزاوية سقوطها أكبر من الزاوية الحرجة

- الأكبر كثافة وزاوية سقوطها أقل من الزاوية الحرجة

- الأقل كثافة وزاوية سقوطها أقل من الزاوية الحرجة

- الأقل كثافة وزاوية سقوطها أكبر من الزاوية الحرجة



١٥-يسقط شعاع ضوئي بزواوية سقوط أكبر من الزاوية الحرجة بين الماء والهواء

كما بالشكل فإن مسار الشعاع بعد اصطدامه بالسطح الفاصل يمثله المتجه:

- AC  AB

- AD  AF

١٦ - في الشكل السابق إذا سقط الشعاع الضوئي بزواوية سقوط تساوي الزاوية الحرجة بين الماء والهواء فإن مسار

الشعاع بعد اصطدامه بالسطح الفاصل يمثله المتجه :

- AD  AF  AC  AB

١٧ - عندما ينتقل شعاع ضوئي من وسط أقل كثافة ضوئية إلى وسط أكبر كثافة ضوئية فإن الشعاع الساقط :

- لا يعاني أي انكسار.  
 ينكسر مقترباً من العمود المقام .

- ينكسر ويخرج منطبقاً على السطح الفاصل

١٨ - إذا كانت الزاوية الحرجة لوسط بالنسبة للهواء ( $45^\circ$ ) فإن معامل الانكسار المطلق لهذا الوسط يساوي :

- 2  1.7  1.5   $\sqrt{2}$

١٩ - سقط شعاع من وسط أكبر كثافة ضوئية فخرج الشعاع منطبقاً على السطح الفاصل بين الوسطين فإذا كان

معامل الانكسار لهذا الوسط ( 1.3 ) فإن زاوية السقوط تساوي تقريباً :

- $90^\circ$    $60^\circ$    $50^\circ$    $30^\circ$

وزارة التربية-التوجيه الفني للعلوم -بنك أسئلة الصف الحادي عشر العلمي-الكتاب الثاني

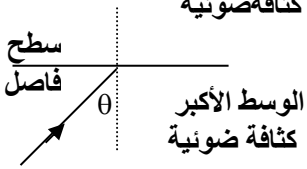
٢٠ - سقط شعاع من وسط أكبر كثافة ضوئية بزواوية ( $50^\circ$ ) فخرج الشعاع في الهواء منطبقاً على السطح الفاصل بين الوسطين فإن معامل الانكسار المطلق الماء يساوي تقريباً :

- 0.75      1.3      1.5      1

٢١ - إذا كان معامل الانكسار المطلق للزجاج ( 1.743 ) فتكون الزاوية الحرجة له بالدرجات مساوية :

- 600      45.40      350      25.70

٢٢ - الشكل المقابل يوضح شعاع ضوئي ساقط على السطح الفاصل بين وسطين فإذا علمت أن زاوية السقوط ( $\theta$ ) أكبر من الزاوية الحرجة فان الشعاع :



- ينكسر مقترباً من العمود       ينفذ على استقامته  
 ينكسر مبتعداً عن العمود .       ينعكس انعكاساً كلياً

٢٣ - إذا سقط شعاع ضوئي من الزجاج الذي معامل انكساره ( 1.5 ) على السطح الذي يفصله عن الهواء بزواوية ( $45^\circ$ ) فان هذا الشعاع :

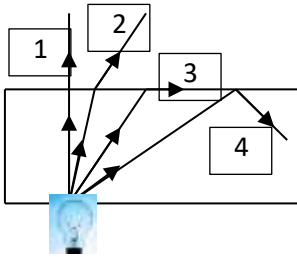
- ينفذ منكسراً بزواوية أكبر من ( $45^\circ$ ) .       ينعكس انعكاساً كلياً بزواوية ( $45^\circ$ )

- ينفذ منكسراً بزواوية أصغر من ( $45^\circ$ ) .       ينفذ مماساً للسطح الفاصل بين الزجاج والهواء

٢٤ - تبدو الأسماك أقرب من مواقعها الحقيقية في الماء بسبب ظاهرة :

- الانعكاس       الانكسار       الحيود       التداخل

٢٥ - الشكل يوضح كتلة من الزجاج تتركز على مصدر ضوئي تخرج منه أربعة أشعة فأن الزاوية الحرجة هي زاوية سقوط الشعاع رقم :



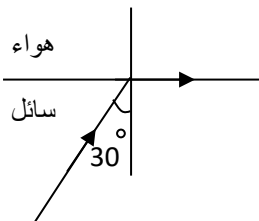
- 1      2

- 3      4

٢٦ - عند انكسار الضوء من وسط معامل انكساره أقل إلى وسط معامل انكساره أكبر فان الشعاع ينكسر :

- مقترباً من العمود المقام على السطح       عمودياً على السطح الفاصل  
 مبتعداً عن العمود على السطح       مماساً للسطح الفاصل

٢٧ - في الشكل سقط شعاع ضوئي من سائل إلى الهواء وكانت زاوية السقوط ( $30^\circ$ ) فيكون معامل الانكسار المطلق لهذا السائل يساوي :



- 0.5      1

- 1.2      2

٢٨ - إذا كانت سرعة الضوء في الهواء ( $3 \times 10^8$ ) m/s وسرعة الضوء في الألماس ( $1.24 \times 10^8$ ) فان الكثافة الضوئية للألماس تقريباً

- 0.413      2.42      4.24 × 10<sup>8</sup>      4.24 × 10<sup>16</sup>

السؤال الخامس :

( أ ) : قارن بين كل مما يلي حسب وجه المقارن المطلوب في الجدول التالي:

المرآة المقعرة	المرآة المحدبة	وجه المقارنة
		شكل السطح العاكس
		الأشعة المتوازية بعد انعكاسها منها
		إشارة البعد البؤري
الصورة التقديرية	الصورة الحقيقية	وجه المقارنة
		إمكانية استقبالها على حائل
الضوء البنفسجي	الضوء الأحمر	وجه المقارنة ( الأكبر - الأقل )
		التردد
		الانحراف
		معامل الانكسار

( ب ) : علل لكل مما يلي تعليلاً علمياً سليماً :

- المرآة المقعرة تجمع الأشعة
- المرآة المحدبة تفرق الأشعة
- تستخدم الألياف الضوئية في العمليات الجراحية التي تعتمد على المنظار

( ج ) : ماذا يحدث:

- للشعاع المنعكس إذا كان الشعاع الساقط مواز للمحور على مرآة مقعرة.
- للشعاع المنعكس إذا كان الشعاع الساقط مارا بالبؤرة .
- للشعاع المنعكس إذا مر الشعاع الساقط بالمركز .
- عند دخول شعاع ضوئي داخل الليفة الضوئية .
- عند سقوط شعاع ضوئي من وسط أكبر كثافة ضوئية إلى وسط أقل كثافة ضوئية بزاوية سقوط أكبر من الزاوية الحرجة.

( د ) : أجب عن ما يلي :

- شروط حدوث ظاهرة الانعكاس الكلي.
- أهم استخدامات الألياف الضوئية البصرية.

( هـ ) : فسر ما يلي :

- تكون الصور في المرايا.
- حدوث ظاهرة الانعكاس الكلي.

( و ) : نشاط عملي :

هل تستقطب موجات الضوء ! أشرح مستعيناً بالرسم تجربة عملية تثبت صحة رأيك

( ز ) : استنتج ما يلي :

استنتج العلاقة التي تعطي الزاوية الحرجة ابتداء من قانون سنل .

السؤال السادس : حل المسائل التالية :

مسألة ١: وضع جسم طوله cm (10) وعلى بعد cm (20) من مرآة مستوية أوجد ما يلي :

١ - طول الصورة .

٢ - بعد الصورة .

٣ - تكبير الصورة .

٤ - صفات الصورة المتكونة.

مسألة ٢: وضع جسم طوله cm (4) وعلى بعد cm (5) من مرآة كروية فتكونت له صورة حقيقية مقلوبة ومكبرة إلى أربعة أمثال أوجد ما يلي :

١. بعد الصورة .

نوع المرآة وبعدها البؤري .

مسألة ٣ : وضع جسم طوله cm (3) وعلى بعد cm (10) من مرآة كروية فتكونت له صورة تقديرية معتدلة على

بعد cm (5) أوجد ما يلي :

١. نوع المرآة.

٢- بعدها البؤري.

## وزارة التربية-التوجيه الفني للعلوم -بنك أسئلة الصف الحادي عشر العلمي-الكتاب الثاني

مسألة ٤ : وضع جسم طوله cm (10) وعلى بعد cm (20) من مرآة كروية بعدها البؤري cm (4) أوجد ما يلي:

أ- إذا كانت المرآة المستخدمة مرآة مقعرة

١. بعد الصورة.

٢. التكبير.

٣. صفات الصورة المتكونة.

٤. طول الصورة .

ب- إذا كانت المرآة المستخدمة مرآة محدبة

١. بعد الصورة.

التكبير.

صفات الصورة المتكونة.

طول الصورة .

مسألة ٥ : بفرض أن معامل الانكسار للماء (1.4) وللزجاج (1.6) فإذا كانت سرعة الضوء في الهواء

$(3 \times 10^8) \text{ m/s}$  فأحسب:

١. سرعة الضوء في الزجاج

٢. سرعة الضوء في الماء

٣. معامل الانكسار بين الماء والزجاج

٤. الزاوية الحرجة للماء بالنسبة للهواء